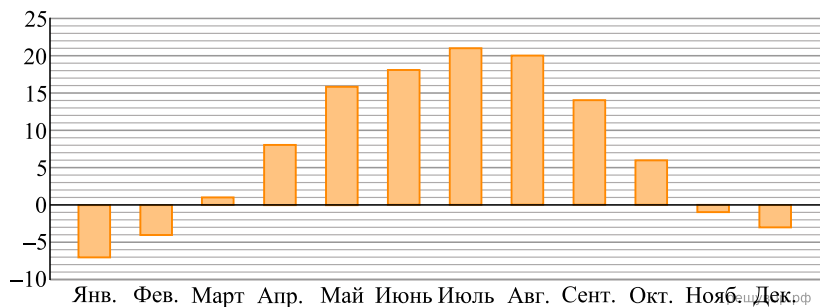
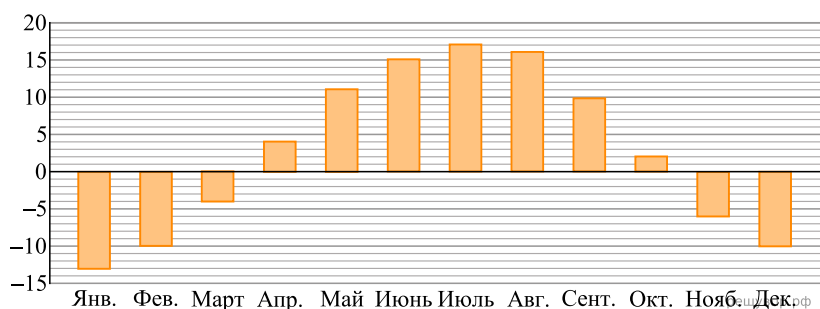


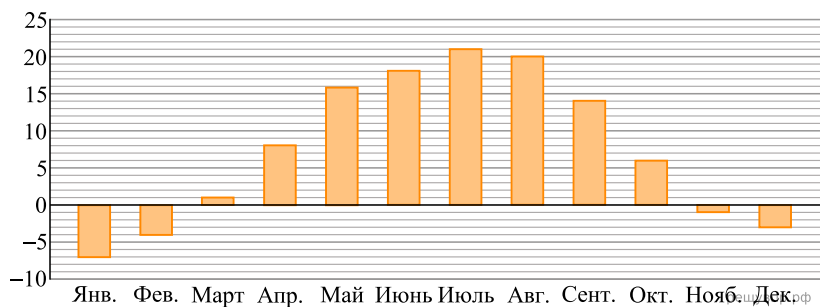
1. На диаграмме показана средняя температура воздуха в Воронеже в каждом месяце. По вертикали указана температура воздуха в градусах Цельсия, по горизонтали — месяцы. В каком месяце первого полугодия средняя температура воздуха была самой высокой? В ответе укажите название месяца.



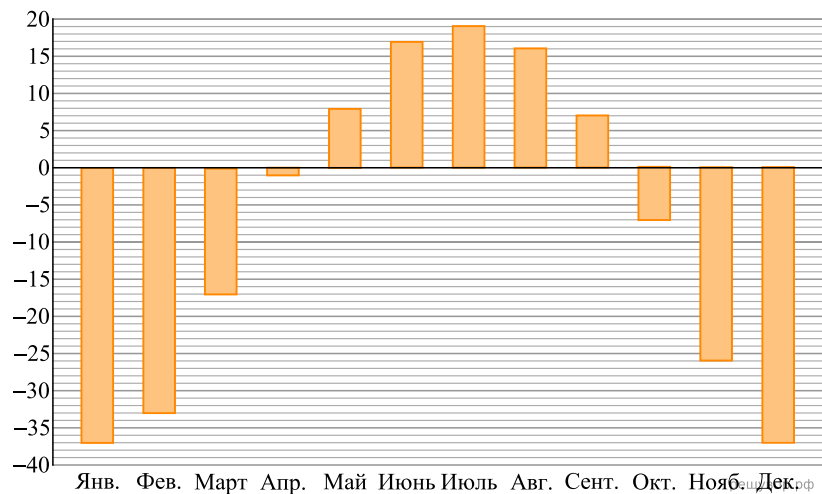
2. На диаграмме показана средняя температура воздуха в Перми в каждом месяце. По вертикали указана температура воздуха в градусах Цельсия, по горизонтали — месяцы. В каком месяце первого полугодия средняя температура воздуха была самой высокой? В ответе укажите название месяца.



3. На диаграмме показана средняя температура воздуха в Смоленске в каждом месяце. По вертикали указана температура воздуха в градусах Цельсия, по горизонтали — месяцы. В каком месяце первого полугодия средняя температура воздуха была самой высокой? В ответе укажите название месяца.



4. На диаграмме показана средняя температура воздуха в Якутске в каждом месяце. По вертикали указана температура воздуха в градусах Цельсия, по горизонтали — месяцы. В каком месяце первого полугодия средняя температура воздуха была самой высокой? В ответе укажите название месяца.



5. На диаграмме показана средняя температура воздуха в Якутске в каждом месяце. По вертикали указана температура воздуха в градусах Цельсия, по горизонтали — месяцы. В каком месяце второго полугодия средняя температура воздуха была самой высокой? В ответе укажите название месяца.

