
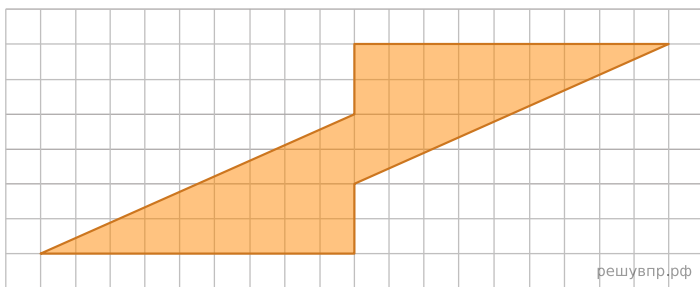
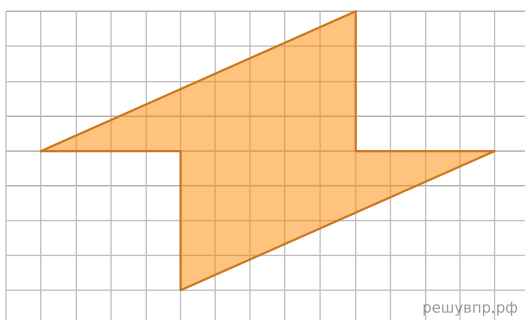



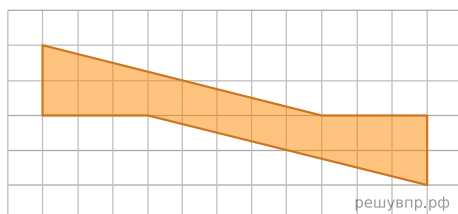
1. На рисунке изображена фигура. Нарисуйте квадрат, площадь которого равна площади данной фигуры.



2. На рисунке изображена фигура. Нарисуйте квадрат, площадь которого равна площади данной фигуры.



3. На рисунке изображена фигура. Нарисуйте квадрат, площадь которого равна площади данной фигуры.



4. На рисунке изображена фигура. Нарисуйте квадрат, площадь которого равна площади данной фигуры.

