

1. На рисунке 1 показаны фигуры, симметричные относительно точки  $O$ . На рисунке 2 показаны фигура и точка  $O$ . Нарисуйте фигуру, симметричную данной фигуре относительно точки  $O$ , на рисунке 2.

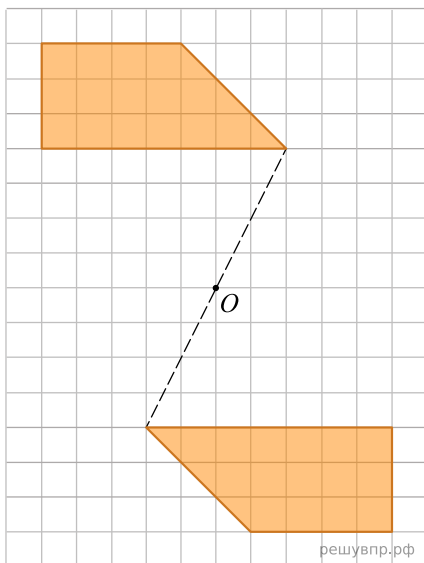


Рис. 1

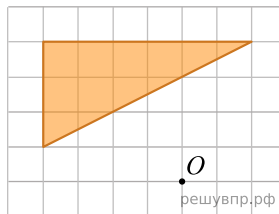


Рис. 2

2. На рисунке 1 показаны фигуры, симметричные относительно точки  $O$ . На рисунке 2 показаны фигура и точка  $O$ . Нарисуйте фигуру, симметричную данной фигуре относительно точки  $O$ , на рисунке 2.

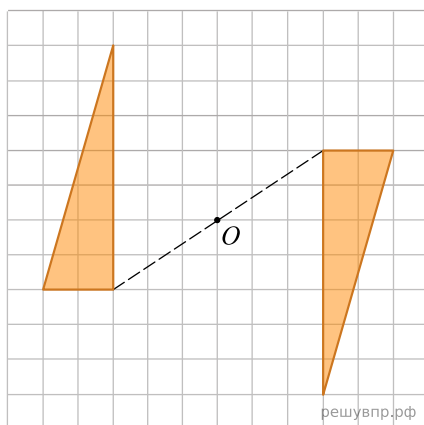


Рис. 1

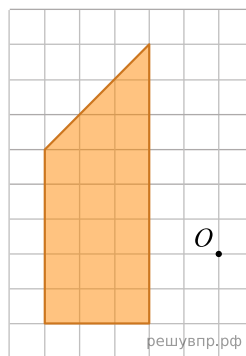


Рис. 2

3. На рисунке 1 показаны фигуры, симметричные относительно точки  $O$ . На рисунке 2 показаны фигура и точка  $O$ . Нарисуйте фигуру, симметричную данной фигуре относительно точки  $O$ , на рисунке 2.

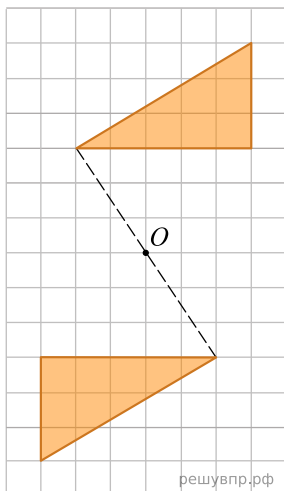


Рис. 1

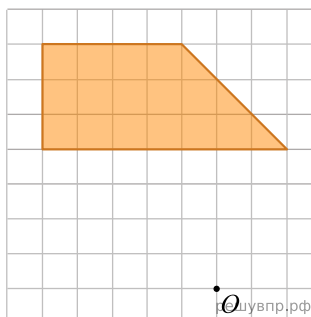


Рис. 2

4. На рисунке 1 показаны фигуры, симметричные относительно точки  $O$ . На рисунке 2 показаны фигура и точка  $O$ . Нарисуйте фигуру, симметричную данной фигуре относительно точки  $O$ , на рисунке 2.

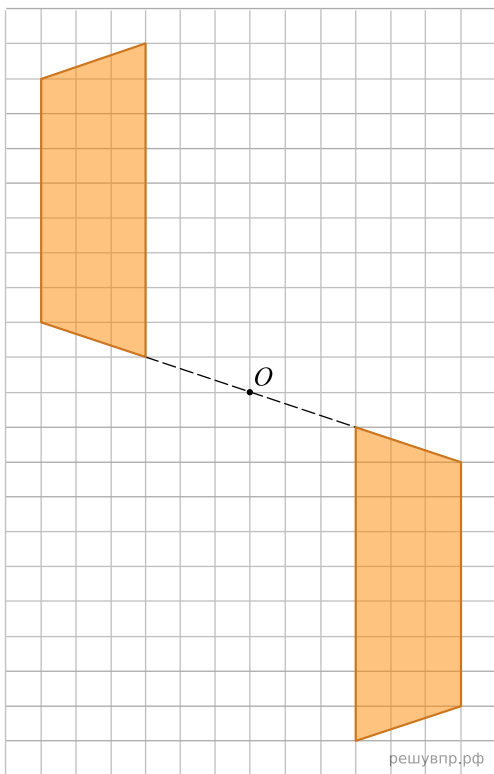


Рис. 1

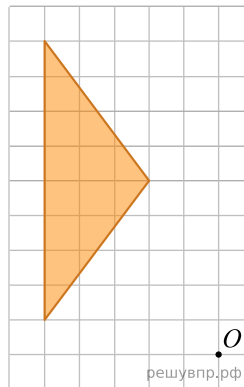


Рис. 2

5. На рисунке 1 показаны фигуры, симметричные относительно точки  $O$ . На рисунке 2 показаны фигура и точка  $O$ . Нарисуйте фигуру, симметричную данной фигуре относительно точки  $O$ , на рисунке 2.

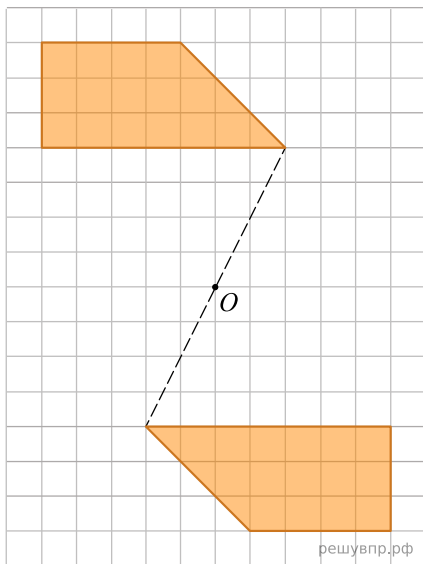


Рис. 1

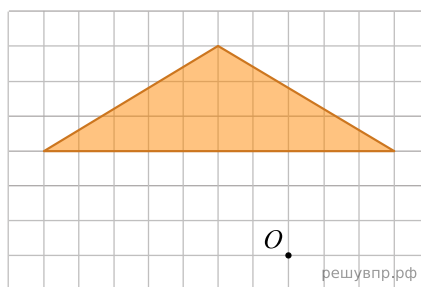


Рис. 2

6. На рисунке 1 показаны фигуры, симметричные относительно точки  $O$ . На рисунке 2 показаны фигура и точка  $O$ . Нарисуйте фигуру, симметричную данной фигуре относительно точки  $O$ , на рисунке 2.

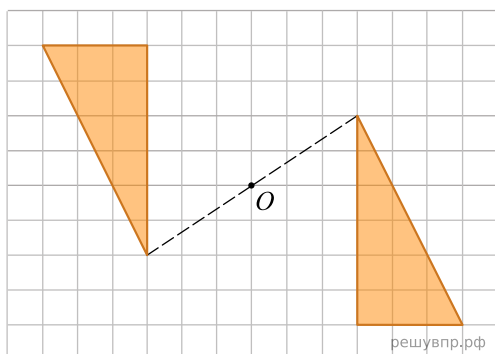


Рис. 1

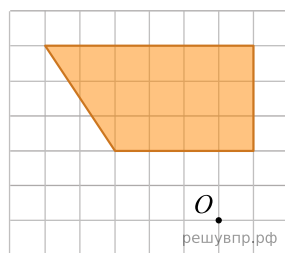


Рис. 2

7. На рисунке 1 показаны фигуры, симметричные относительно точки  $O$ . На рисунке 2 показаны фигура и точка  $O$ . Нарисуйте фигуру, симметричную данной фигуре относительно точки  $O$ , на рисунке 2.

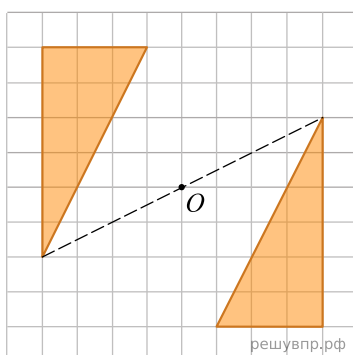


Рис. 1

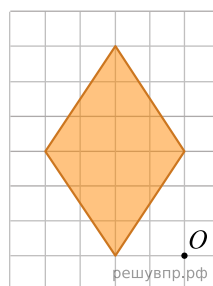


Рис. 2

8. На рисунке 1 показаны фигуры, симметричные относительно точки  $O$ . На рисунке 2 показаны фигура и точка  $O$ . Нарисуйте фигуру, симметричную данной фигуре относительно точки  $O$ , на рисунке 2.

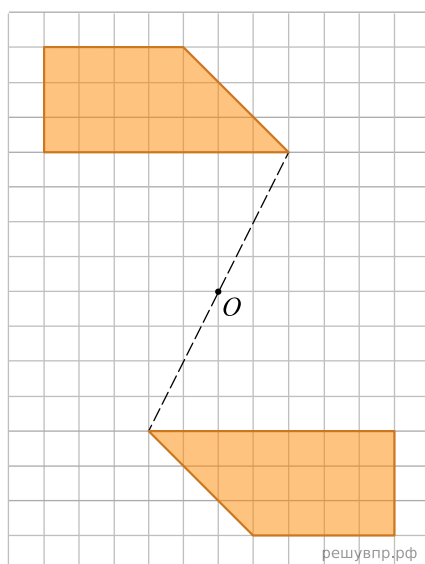


Рис. 1

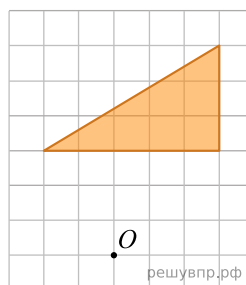


Рис. 2

9. На рисунке 1 показаны фигуры, симметричные относительно точки  $O$ . На рисунке 2 показаны фигура и точка  $O$ . Нарисуйте фигуру, симметричную данной фигуре относительно точки  $O$ , на рисунке 2.

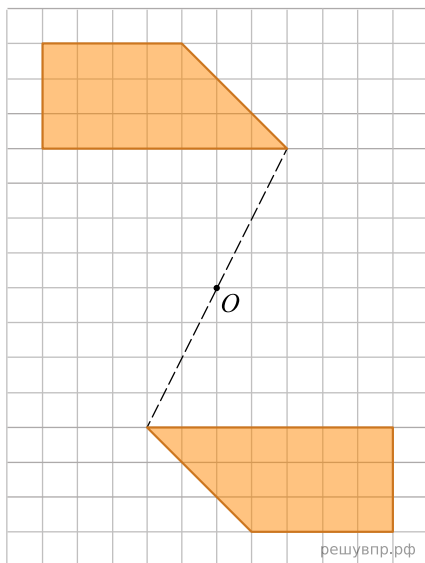


Рис. 1

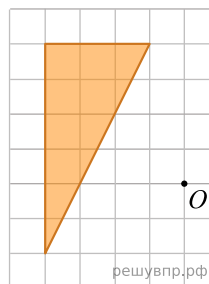


Рис. 2

10. На рисунке 1 показаны фигуры, симметричные относительно точки  $O$ . На рисунке 2 показаны фигура и точка  $O$ . Нарисуйте фигуру, симметричную данной фигуре относительно точки  $O$ , на рисунке 2.

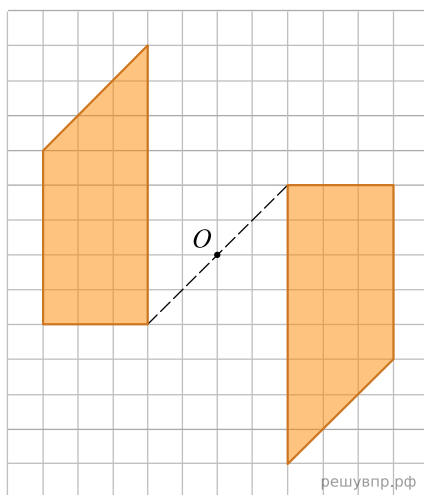


Рис. 1

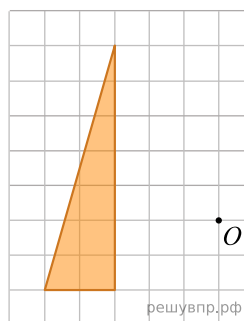


Рис. 2

11. На рисунке 1 показаны фигуры, симметричные относительно точки  $O$ . На рисунке 2 показаны фигура и точка  $O$ . Нарисуйте фигуру, симметричную данной фигуре относительно точки  $O$ , на рисунке 2.

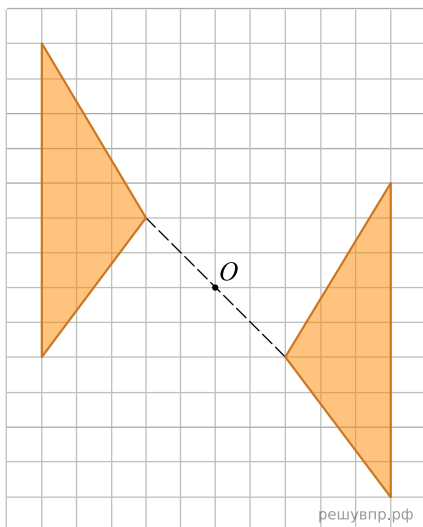


Рис. 1

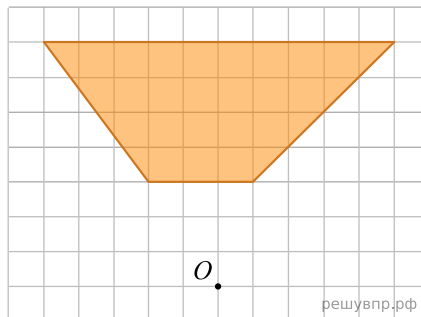


Рис. 2

12. На рисунке 1 показаны фигуры, симметричные относительно точки  $O$ . На рисунке 2 показаны фигура и точка  $O$ . Нарисуйте фигуру, симметричную данной фигуре относительно точки  $O$ , на рисунке 2.

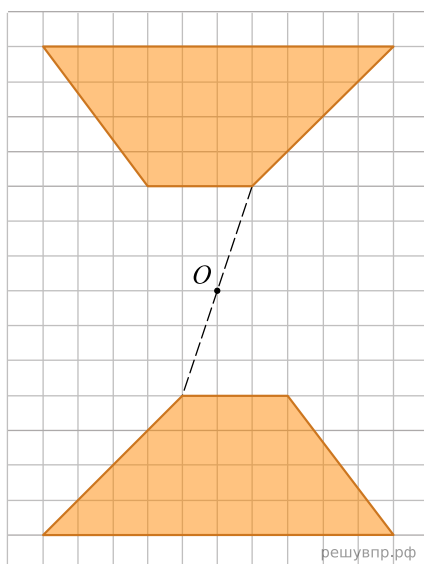


Рис. 1

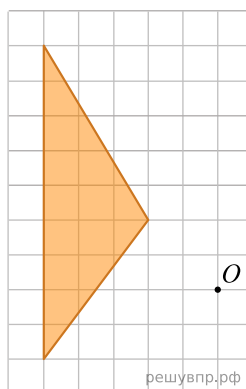


Рис. 2

13. На рисунке 1 показаны фигуры, симметричные относительно точки  $O$ . На рисунке 2 показаны фигура и точка  $O$ . Нарисуйте фигуру, симметричную данной фигуре относительно точки  $O$ , на рисунке 2.

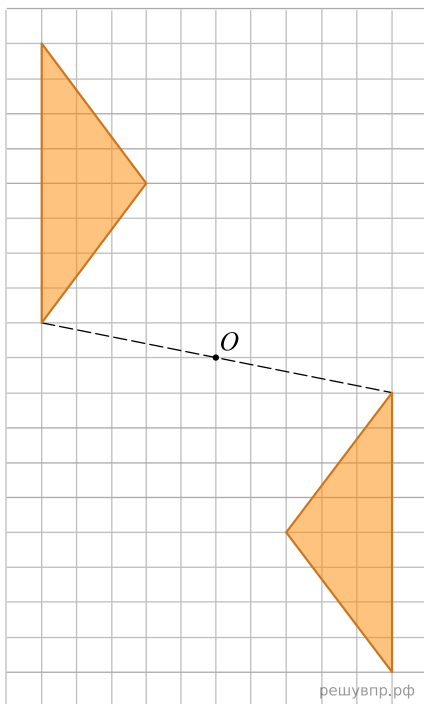


Рис. 1

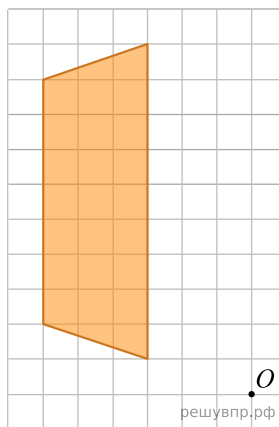


Рис. 2

14. На рисунке 1 показаны фигуры, симметричные относительно точки  $O$ . На рисунке 2 показаны фигура и точка  $O$ . Нарисуйте фигуру, симметричную данной фигуре относительно точки  $O$ , на рисунке 2.

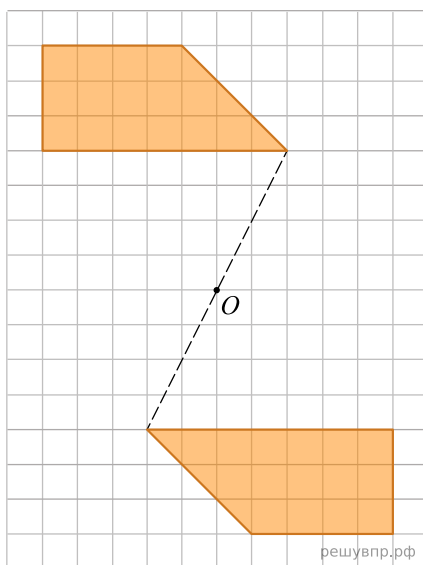


Рис. 1

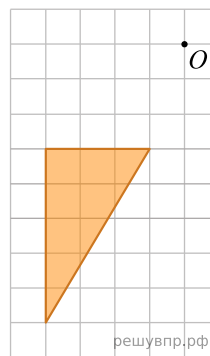


Рис. 2

15. На рисунке 1 показаны фигуры, симметричные относительно точки  $O$ . На рисунке 2 показаны фигура и точка  $O$ . Нарисуйте фигуру, симметричную данной фигуре относительно точки  $O$ , на рисунке 2.

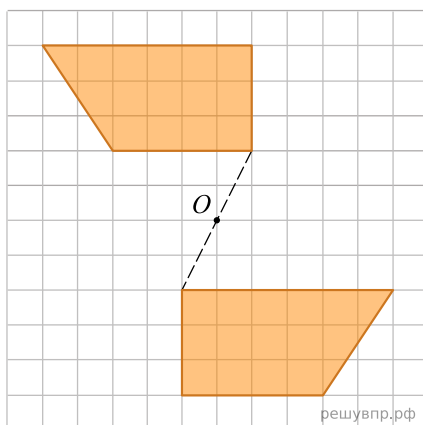


Рис. 1

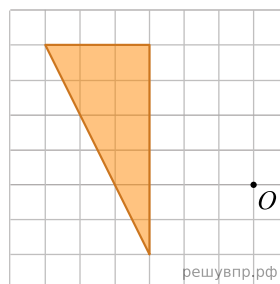


Рис. 2