


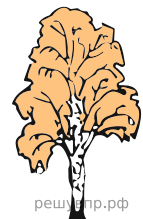
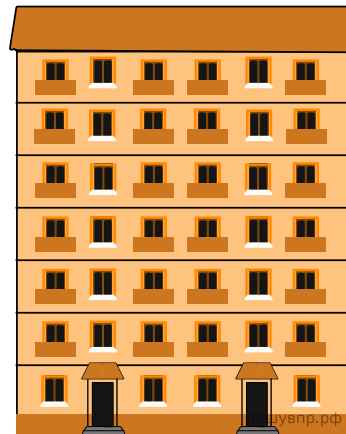
1.

На рисунке изображены здание и стоящее рядом дерево. Высота здания равна 28 м. Какова примерная высота дерева? Ответ дайте в метрах.





2.

На рисунке изображены здание и стоящее рядом дерево. Высота здания равна 21 м. Какова примерная высота дерева? Ответ дайте в метрах.





3.

На рисунке изображены здание и стоящее рядом дерево. Высота здания равна 28 м. Какова примерная высота дерева? Ответ дайте в метрах.




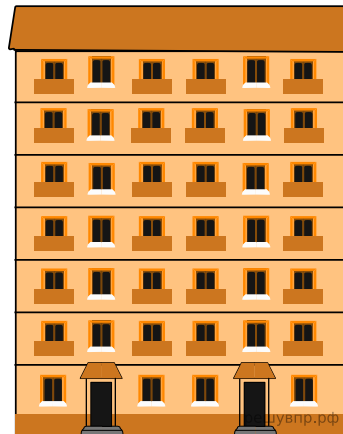
4.

На рисунке изображены здание и стоящее рядом дерево. Высота здания равна 19 м. Какова примерная высота дерева? Ответ дайте в метрах.



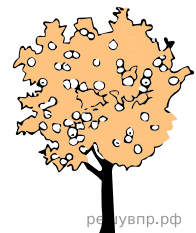

5.

На рисунке изображены здание и стоящее рядом дерево. Высота дерева равна 13 м. Какова примерная высота здания? Ответ дайте в метрах.

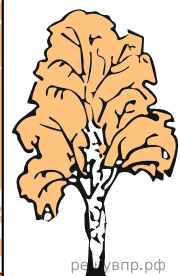



6.

На рисунке изображены здание и стоящее рядом дерево. Высота здания равна 10 м. Какова примерная высота дерева? Ответ дайте в метрах.



7. На рисунке изображены здание и стоящее рядом дерево. Высота здания равна 16 м. Какова примерная высота дерева? Ответ дайте в метрах.



8.

На рисунке изображены здание и стоящее рядом дерево. Высота здания равна 7 м. Какова примерная высота дерева? Ответ дайте в метрах.

