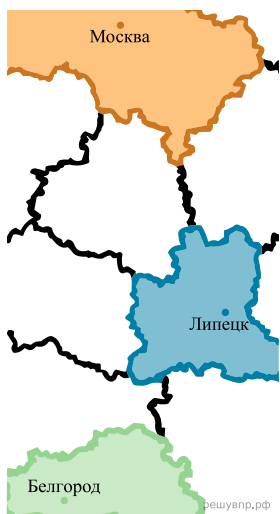


1. На рисунке изображён фрагмент карты европейской части России. Расстояние между Москвой и Тверью 170 км. Сколько приблизительно километров между Москвой и Иваново? В ответ запишите число кратное 10.



2. На рисунке изображён фрагмент карты европейской части России. Расстояние между Белгородом и Липецком 310 км. Сколько приблизительно километров между Москвой и Липецком?



3. На рисунке изображён фрагмент карты европейской части России. Расстояние между Москвой и Рязанью 190 км. Сколько приблизительно километров между Рязанью и Воронежем?



4. На рисунке изображён фрагмент карты европейской части России. Расстояние между Москвой и Калугой 170 км. Сколько приблизительно километров между Москвой и Ярославлем? В ответ запишите число кратное 10.



5. На рисунке изображён фрагмент карты европейской части России. Расстояние между Москвой и Костромой 310 км. Сколько приблизительно километров между Москвой и Курском?



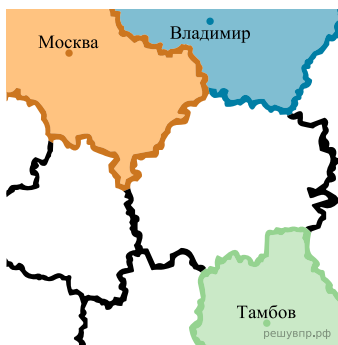
6. На рисунке изображён фрагмент карты европейской части России. Расстояние между Москвой и Тулой 180 км. Сколько приблизительно километров между Тулой и Брянском? В ответе запишите число кратное 10.



7. На рисунке изображён фрагмент карты европейской части России. Расстояние между Москвой и Рязанью 190 км. Сколько приблизительно километров между Рязанью и Липецком? В ответе запишите число кратное 10.



8. На рисунке изображён фрагмент карты европейской части России. Расстояние между Москвой и Владимиром 180 км. Сколько приблизительно километров между Москвой и Тамбовом? В ответ запишите число кратное 10.



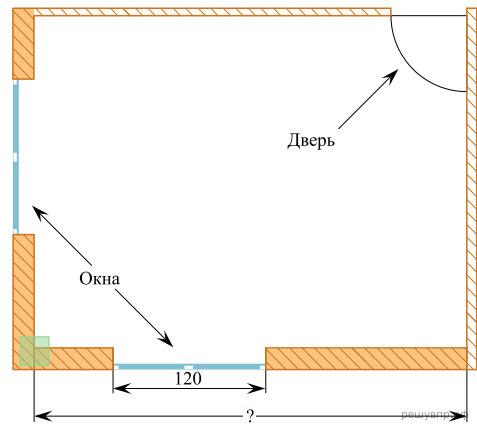
9. На рисунке изображён фрагмент карты европейской части России. Расстояние между Москвой и Тверью 170 км. Сколько приблизительно километров между Москвой и Орлом?



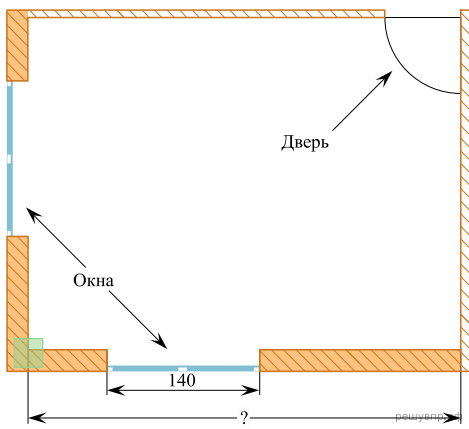
10. На рисунке изображён фрагмент карты европейской части России. Расстояние между Москвой и Иваново 250 км. Сколько приблизительно километров между Москвой и Смоленском? В ответ запишите число кратное 10.



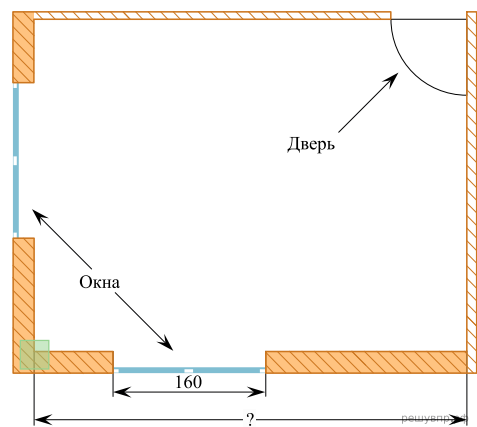
11. На рисунке изображён план комнаты. Ширина окна равна 120 см. Найдите, чему примерно равна длина комнаты (на рисунке обозначена знаком вопроса). Ответ дайте в сантиметрах. В ответ запишите число кратное 10.



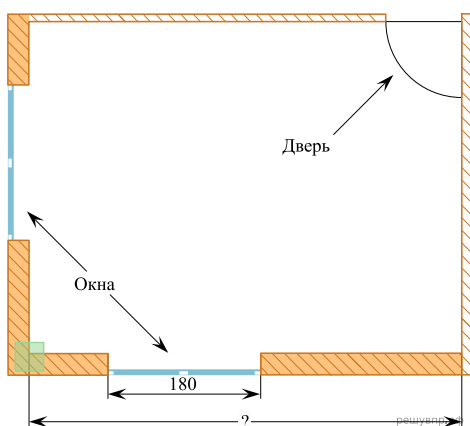
12. На рисунке изображён план комнаты. Ширина окна равна 140 см. Найдите, чему примерно равна длина комнаты (на рисунке обозначена знаком вопроса). Ответ дайте в сантиметрах.



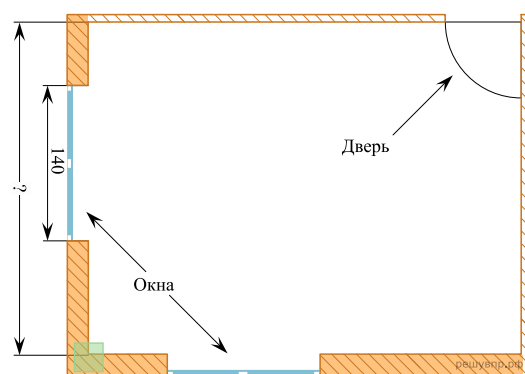
13. На рисунке изображён план комнаты. Ширина окна равна 160 см. Найдите, чему примерно равна длина комнаты (на рисунке обозначена знаком вопроса). Ответ дайте в сантиметрах. В ответ запишите число кратное 10.



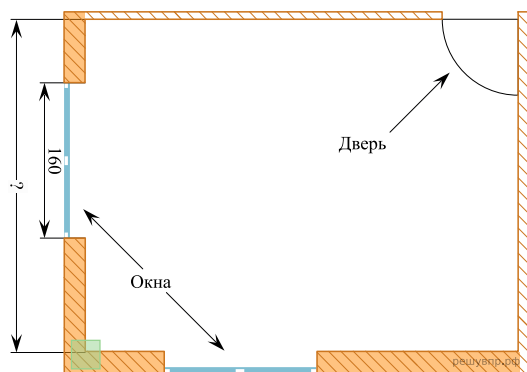
14. На рисунке изображён план комнаты. Ширина окна равна 180 см. Найдите, чему примерно равна длина комнаты (на рисунке обозначена знаком вопроса). Ответ дайте в сантиметрах. В ответ запишите число кратное 10.



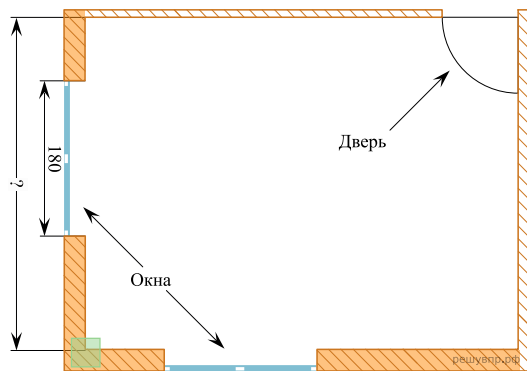
15. На рисунке изображён план комнаты. Ширина окна равна 140 см. Найдите, чему примерно равна ширина комнаты (на рисунке обозначена знаком вопроса). Ответ дайте в сантиметрах. В ответ запишите число кратное 10.



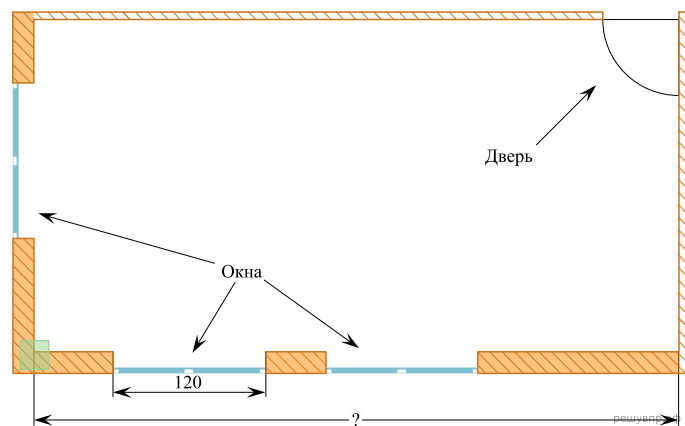
16. На рисунке изображён план комнаты. Ширина окна равна 160 см. Найдите, чему примерно равна ширина комнаты (на рисунке обозначена знаком вопроса). Ответ дайте в сантиметрах.



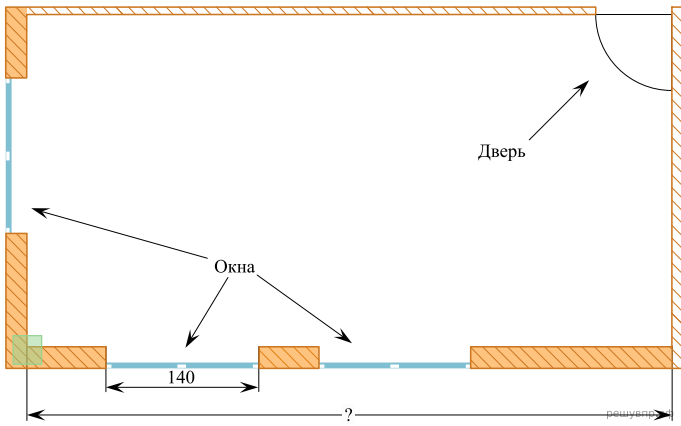
17. На рисунке изображён план комнаты. Ширина окна равна 180 см. Найдите, чему примерно равна ширина комнаты (на рисунке обозначена знаком вопроса). Ответ дайте в сантиметрах, округлите до десятков.



18. На рисунке изображён план комнаты. Ширина окна равна 120 см. Найдите, чему примерно равна длина комнаты (на рисунке обозначена знаком вопроса). Ответ дайте в сантиметрах.



19. На рисунке изображён план комнаты. Ширина окна равна 140 см. Найдите, чему примерно равна длина комнаты (на рисунке обозначена знаком вопроса). Ответ дайте в сантиметрах.



20. На рисунке изображён план комнаты. Ширина окна равна 160 см. Найдите, чему примерно равна длина комнаты (на рисунке обозначена знаком вопроса). Ответ дайте в сантиметрах. Единицы измерения указывать не нужно.

