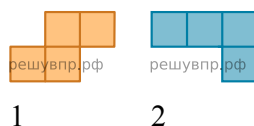
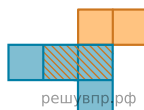


1. Из клетчатой бумаги вырезали две фигурки.

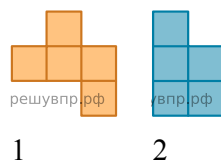


Петя сумел закрыть фигуркой 2 ровно две клеточки фигурки 1.

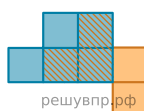


Покажите, как можно закрыть фигуркой 2 ровно три клеточки фигурки 1 (фигурку 2 можно поворачивать).

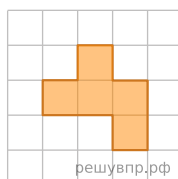
2. Из клетчатой бумаги вырезали две фигурки.



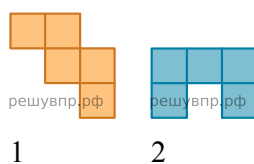
Арсений сумел закрыть фигуркой 2 ровно три клеточки фигурки 1.



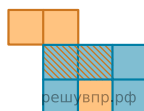
Покажите, как можно закрыть фигуркой 2 ровно четыре клеточки фигурки 1 (фигурку 2 можно поворачивать).



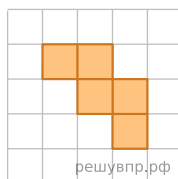
3. Из клетчатой бумаги вырезали две фигурки.



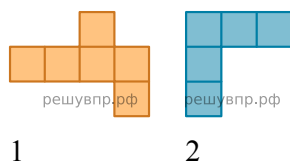
Витя сумел закрыть фигуркой 2 ровно две клеточки фигурки 1.




покажите, как можно закрыть фигуркой 2 ровно три клеточки фигурки 1 (фигурку 2 можно поворачивать).



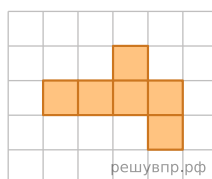
4. Из клетчатой бумаги вырезали две фигурки.



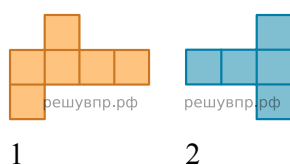
Ваня сумел закрыть фигуркой 2 ровно три клеточки фигурки 1.



Покажите, как можно закрыть фигуркой 2 ровно четыре клеточки фигурки 1 (фигурку 2 можно поворачивать).



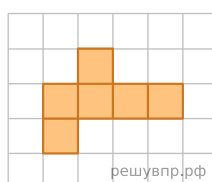
5. Из клетчатой бумаги вырезали две фигурки.



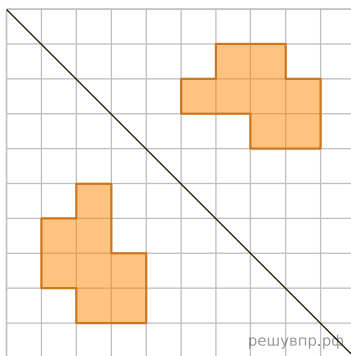
Миша сумел закрыть фигуркой 2 ровно три клеточки фигурки 1.



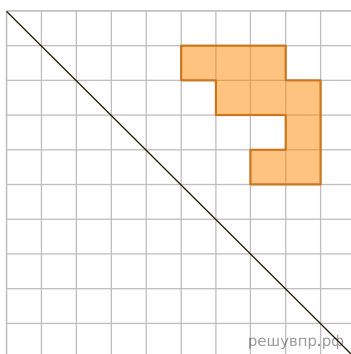
Покажите, как можно закрыть фигуркой 2 ровно четыре клеточки фигурки 1 (фигурку 2 можно поворачивать).



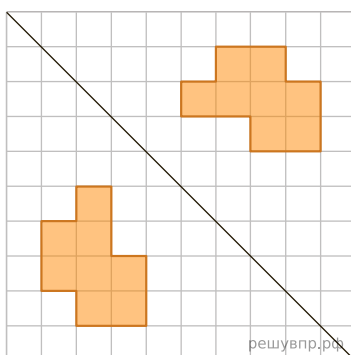
6. Лёня закрасил несколько клеточек на квадратном листке и сложил его по диагонали. Получился отпечаток.



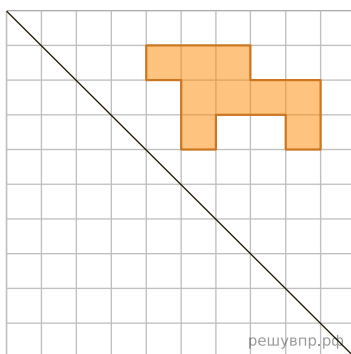
Затем на таком же листке Лёня закрасил несколько клеточек и тоже сложил листок по диагонали. Нарисуйте получившийся отпечаток.



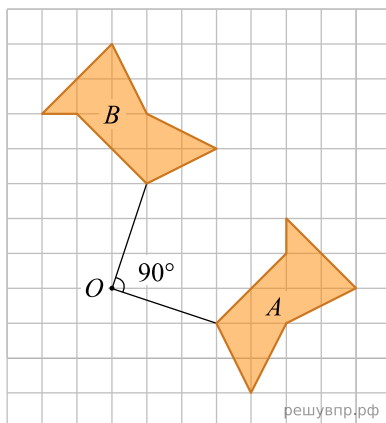
7. Лёня закрасил несколько клеточек на квадратном листке и сложил его по диагонали. Получился отпечаток.



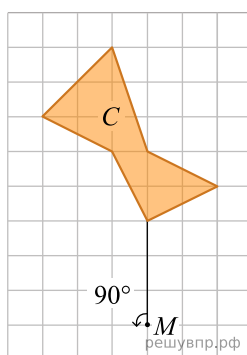
Затем на таком же листке Миша закрасил несколько клеточек и тоже сложил листок по диагонали. Нарисуйте получившийся отпечаток.



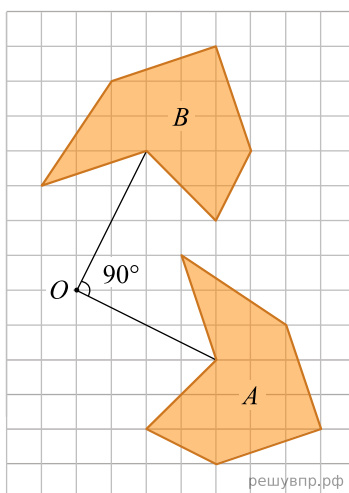
8. Когда фигуру A повернули на 90° против часовой стрелки относительно точки O , получилась фигура B .



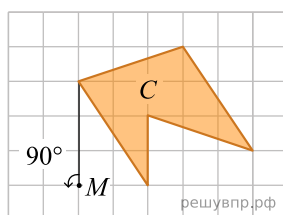
Нарисуйте фигуру, которая получится, если повернуть фигуру C на 90° против часовой стрелки относительно точки M .



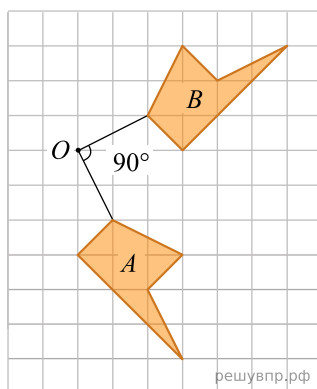
9. Когда фигуру A повернули на 90° против часовой стрелки относительно точки O , получилась фигура B .



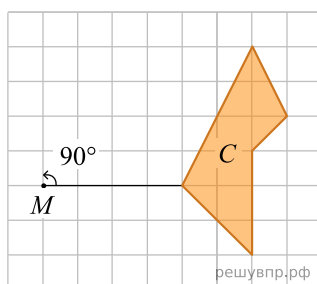
Нарисуйте фигуру, которая получится, если повернуть фигуру C на 90° против часовой стрелки относительно точки M .



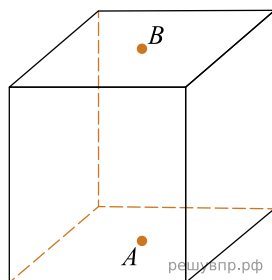
10. Когда фигуру A повернули на 90° против часовой стрелки относительно точки O , получилась фигура B .



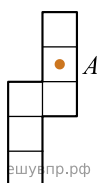
Нарисуйте фигуру, которая получится, если повернуть фигуру C на 90° против часовой стрелки относительно точки M .



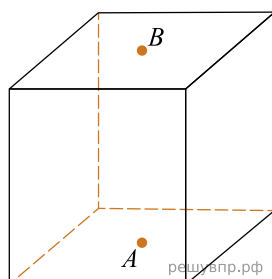
11. На нижней грани куба отмечена точка A , а на верхней — точка B .



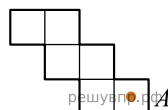
На развертке куба отмечена точка A . Отметьте на развертке точку B .



12. На нижней грани куба отмечена точка A , а на верхней — точка B .



На развертке куба отмечена точка A . Отметьте на развертке точку B .



13. На рисунке 1 показаны фигуры, симметричные относительно точки O . На рисунке 2 показаны фигура и точка O . Нарисуйте фигуру, симметричную данной относительно точки O .

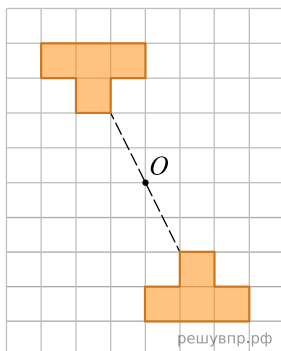


Рис. 1

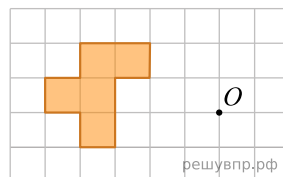


Рис. 2

14. На рисунке 1 показаны фигуры, симметричные относительно точки O . На рисунке 2 показаны фигура и точка O . Нарисуйте фигуру, симметричную данной относительно точки O .

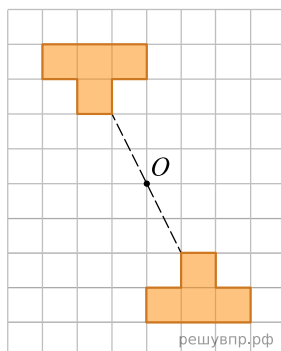


Рис. 1

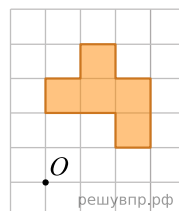


Рис. 2

15. На рисунке 1 показаны фигуры, симметричные относительно точки O . На рисунке 2 показаны фигура и точка O . Нарисуйте фигуру, симметричную данной относительно точки O .

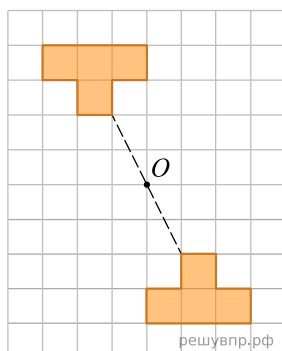


Рис. 1

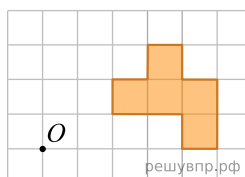


Рис. 2

16. На рисунке 1 показаны фигуры, симметричные относительно точки O . На рисунке 2 показаны фигура и точка O . Нарисуйте фигуру, симметричную данной относительно точки O .

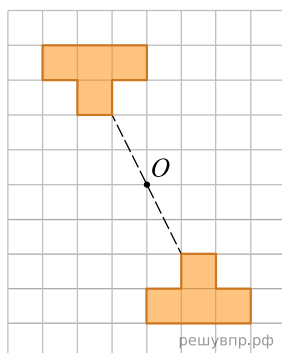


Рис. 1

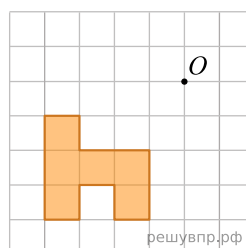


Рис. 2

17. На рисунке 1 показаны фигуры, симметричные относительно точки O . На рисунке 2 показаны фигура и точка O . Нарисуйте фигуру, симметричную данной относительно точки O .

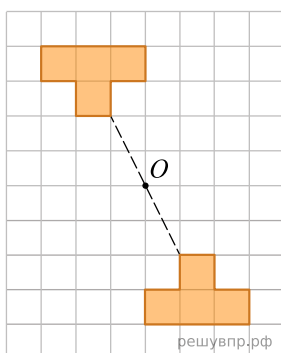


Рис. 1

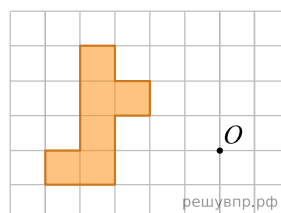


Рис. 2

18. На рисунке 1 показаны фигуры, симметричные относительно точки O . На рисунке 2 показаны фигура и точка O . Нарисуйте фигуру, симметричную данной относительно точки O .

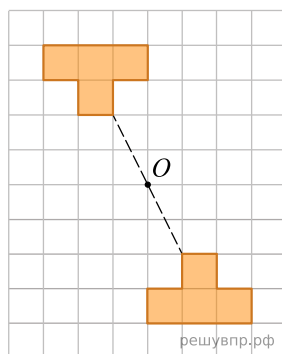


Рис. 1

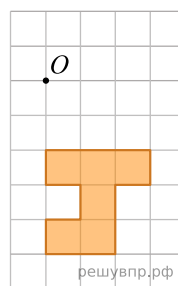


Рис. 2

19. На рисунке 1 показаны фигуры, симметричные относительно точки O . На рисунке 2 показаны фигура и точка O . Нарисуйте фигуру, симметричную данной относительно точки O .

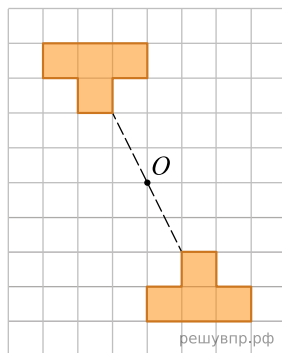


Рис. 1

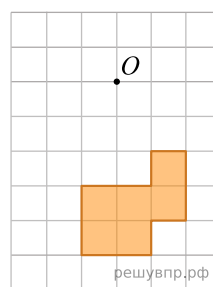


Рис. 2

20. На рисунке 1 показаны фигуры, симметричные относительно точки O . На рисунке 2 показаны фигура и точка O . Нарисуйте фигуру, симметричную данной относительно точки O .

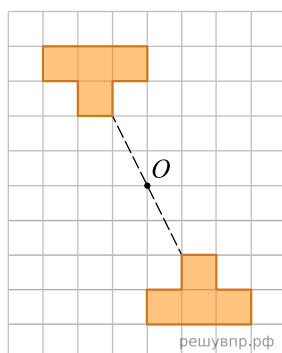


Рис. 1

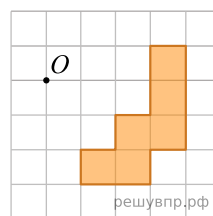


Рис. 2

21. На рисунке 1 показаны фигуры, симметричные относительно точки O . На рисунке 2 показаны фигура и точка O . Нарисуйте фигуру, симметричную данной относительно точки O .

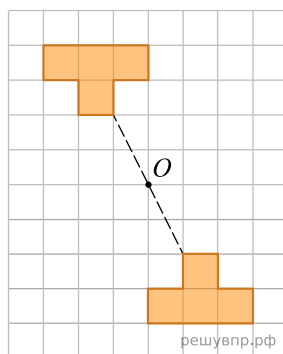

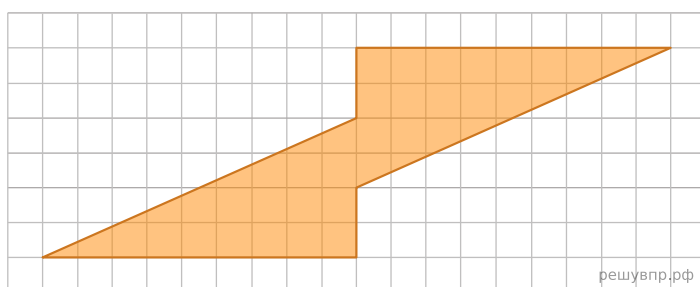


Рис. 1



Рис. 2

22. На рисунке изображена фигура. Нарисуйте квадрат, площадь которого равна площади данной фигуры.



23. На рисунке 1 показаны фигуры, симметричные относительно точки O . На рисунке 2 показаны фигура и точка O . Нарисуйте фигуру, симметричную данной фигуре относительно точки O , на рисунке 2.

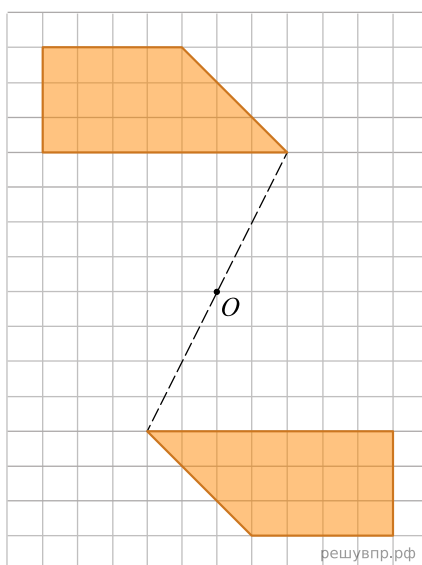


Рис. 1

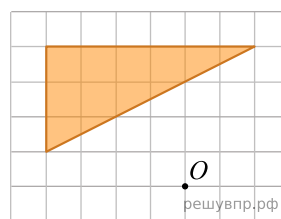
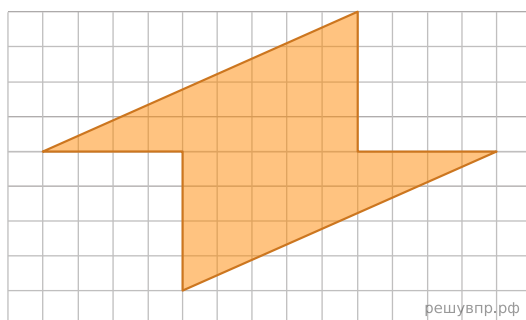
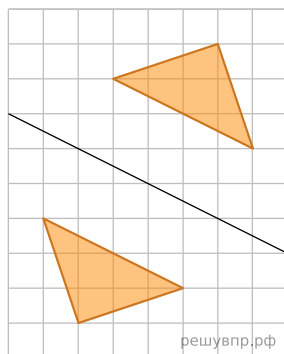


Рис. 2

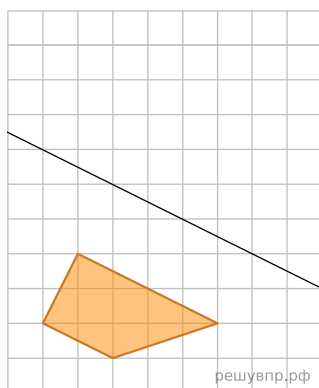
24. На рисунке изображена фигура. Нарисуйте квадрат, площадь которого равна площади данной фигуры.




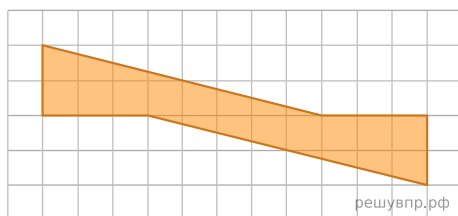
25. Света нарисовала фигуру на квадратном листке и сложила его (линия сгиба обозначена на рисунке). Получился отпечаток. На рисунке показана фигура и полученный отпечаток.



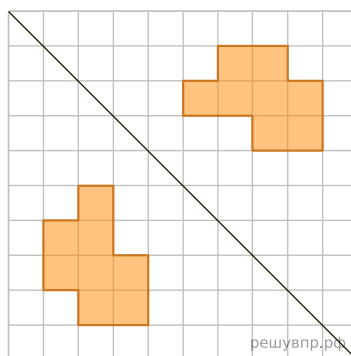
Затем на таком же листке Света нарисовала другую фигуру и сложила листок так же, как и первый листок (линия сгиба обозначена на рисунке). Нарисуйте получившийся отпечаток.



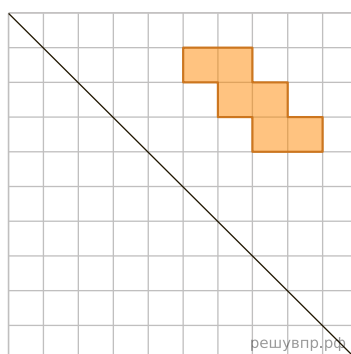
26. На рисунке изображена фигура. Нарисуйте квадрат, площадь которого равна площади данной фигуры.



27. Коля закрасил несколько клеточек на квадратном листке и сложил его по диагонали. Получился отпечаток.



Затем на таком же листке Коля закрасил несколько клеточек и тоже сложил листок по диагонали. Нарисуйте получившийся отпечаток.



28. На рисунке 1 показаны фигуры, симметричные относительно точки O . На рисунке 2 показаны фигура и точка O . Нарисуйте фигуру, симметричную данной фигуре относительно точки O , на рисунке 2.

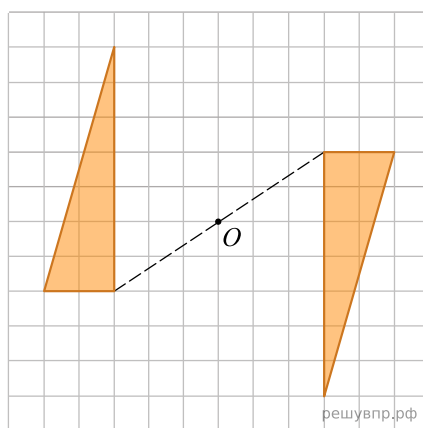


Рис. 1

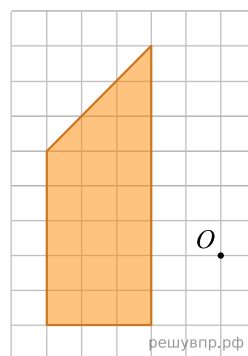
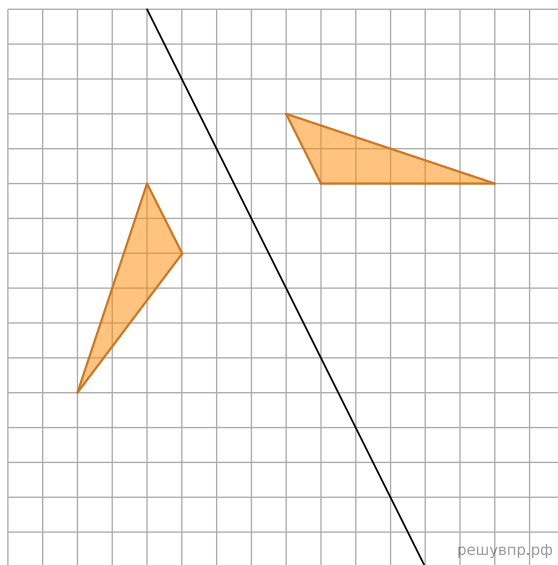
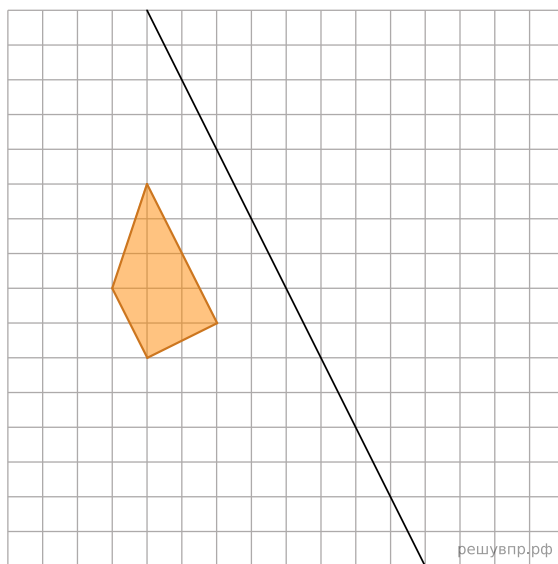


Рис. 2

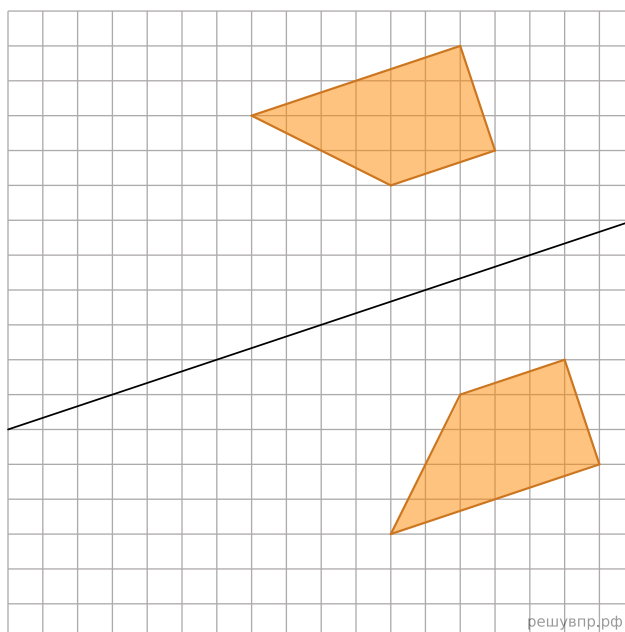
29. Паша нарисовал фигуру на квадратном листке и сложил его (линия сгиба обозначена на рисунке). Получился отпечаток. На рисунке показана фигура и полученный отпечаток.



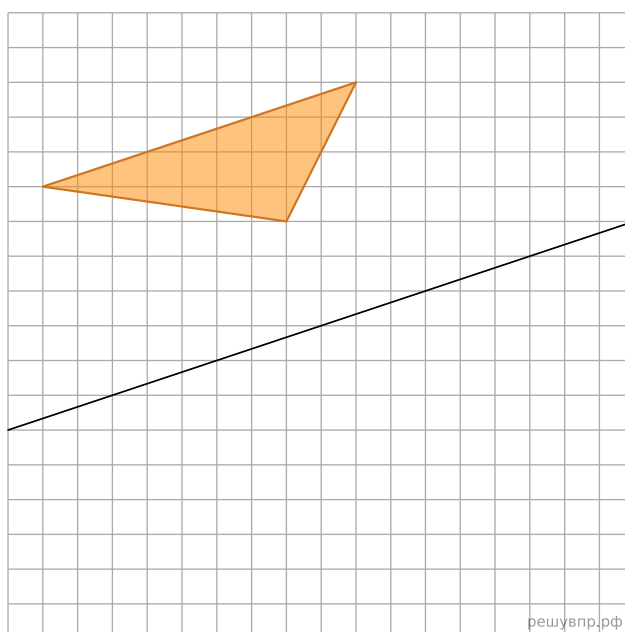
Затем на таком же листке Паша нарисовал другую фигуру и сложил листок так же, как и первый листок (линия сгиба обозначена на рисунке). Нарисуйте получившийся отпечаток.




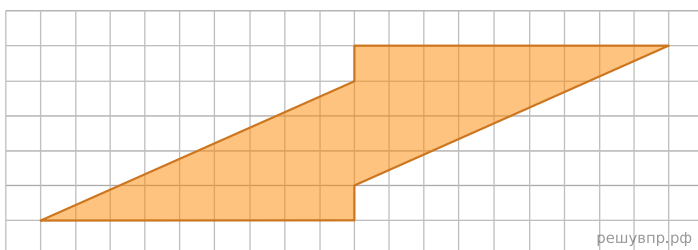
30. Варя нарисовала фигуру на квадратном листке и сложила его (линия сгиба обозначена на рисунке). Получился отпечаток. На рисунке показана фигура и полученный отпечаток.



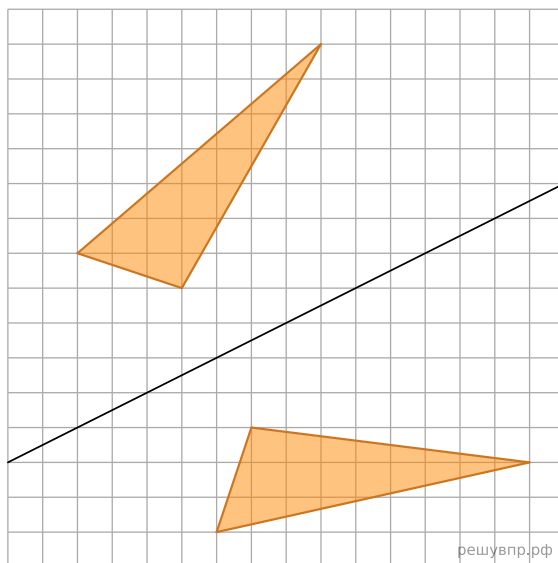
Затем на таком же листке Варя нарисовала другую фигуру и сложила листок так же, как и первый листок (линия сгиба обозначена на рисунке). Нарисуйте получившийся отпечаток.



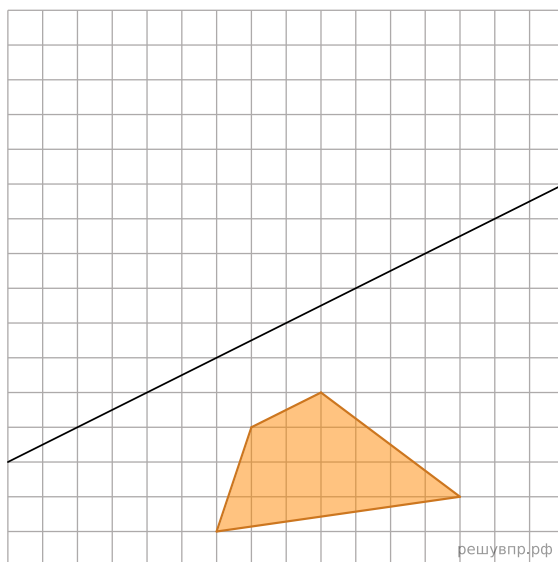
31. На рисунке изображена фигура. Нарисуйте квадрат, площадь которого равна площади данной фигуры.



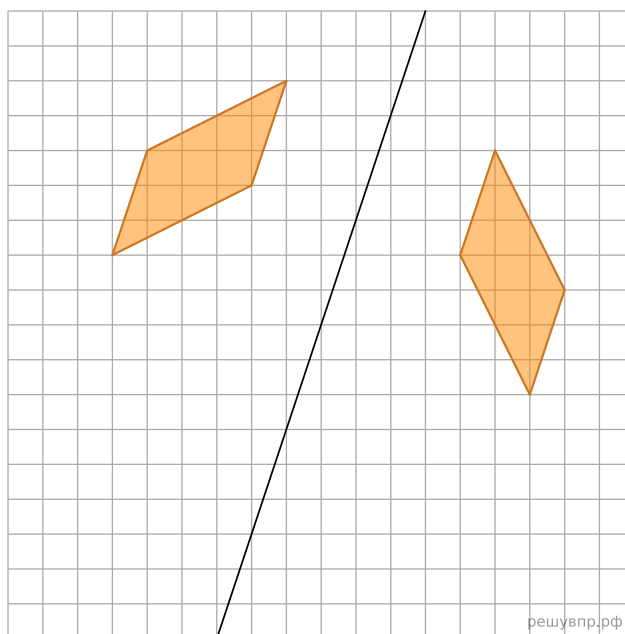
32. Максим нарисовал фигуру на квадратном листке и сложил его (линия сгиба обозначена на рисунке). Получился отпечаток. На рисунке показана фигура и полученный отпечаток.



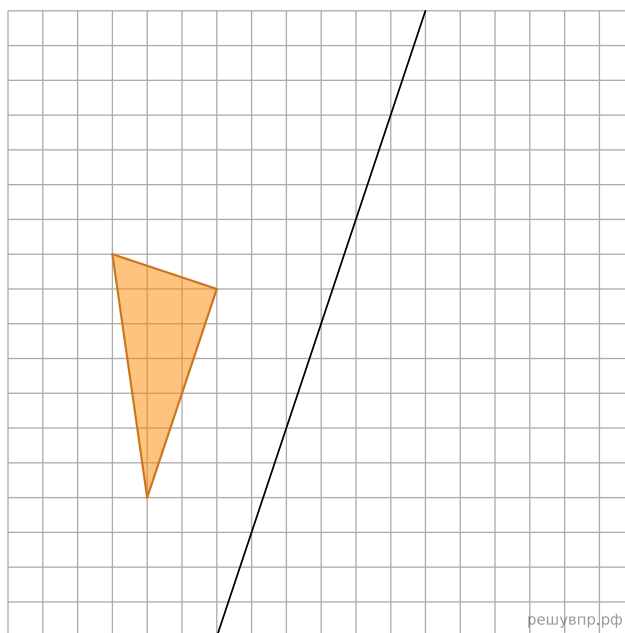
Затем на таком же листке Максим нарисовал другую фигуру и сложил листок так же, как и первый листок (линия сгиба обозначена на рисунке). Нарисуйте получившийся отпечаток.



33. Ваня нарисовал фигуру на квадратном листке и сложил его (линия сгиба обозначена на рисунке). Получился отпечаток. На рисунке показана фигура и полученный отпечаток.



Затем на таком же листке Ваня нарисовал другую фигуру и сложил листок так же, как и первый листок (линия сгиба обозначена на рисунке). Нарисуйте получившийся отпечаток.



34. На рисунке 1 показаны фигуры, симметричные относительно точки O . На рисунке 2 показаны фигура и точка O . Нарисуйте фигуру, симметричную данной фигуре относительно точки O , на рисунке 2.

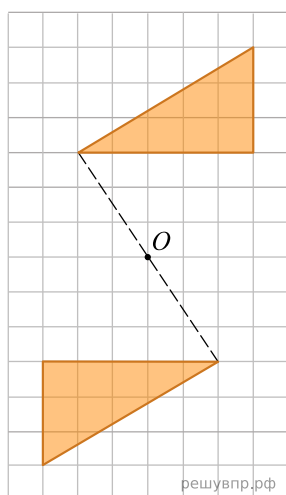


Рис. 1

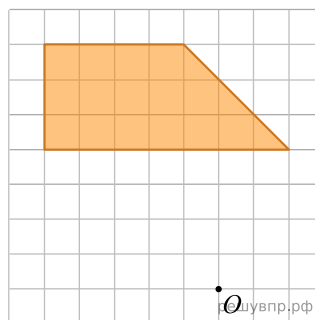


Рис. 2

35. На рисунке 1 показаны фигуры, симметричные относительно точки O . На рисунке 2 показаны фигура и точка O . Нарисуйте фигуру, симметричную данной фигуре относительно точки O , на рисунке 2.

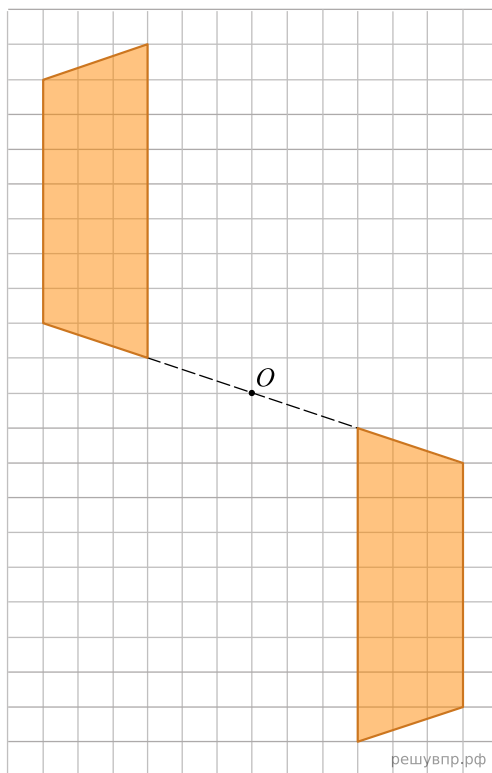


Рис. 1

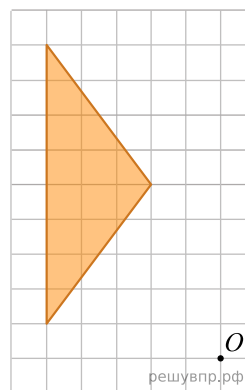


Рис. 2

36. На рисунке 1 показаны фигуры, симметричные относительно точки O . На рисунке 2 показаны фигура и точка O . Нарисуйте фигуру, симметричную данной фигуре относительно точки O , на рисунке 2.

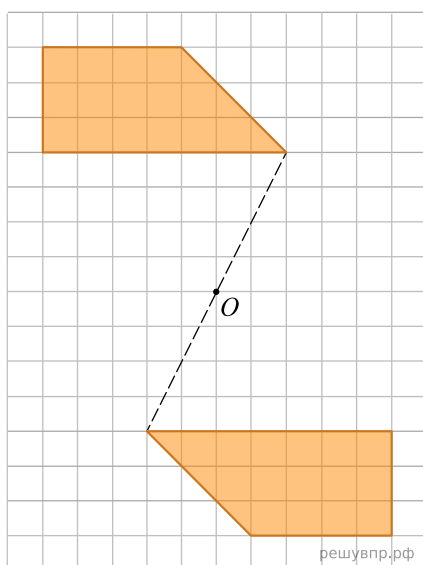


Рис. 1

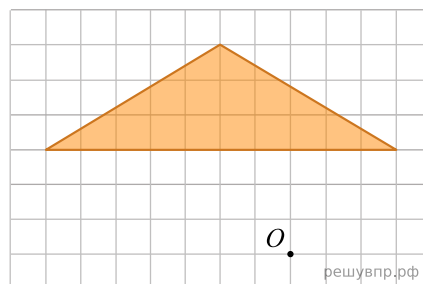
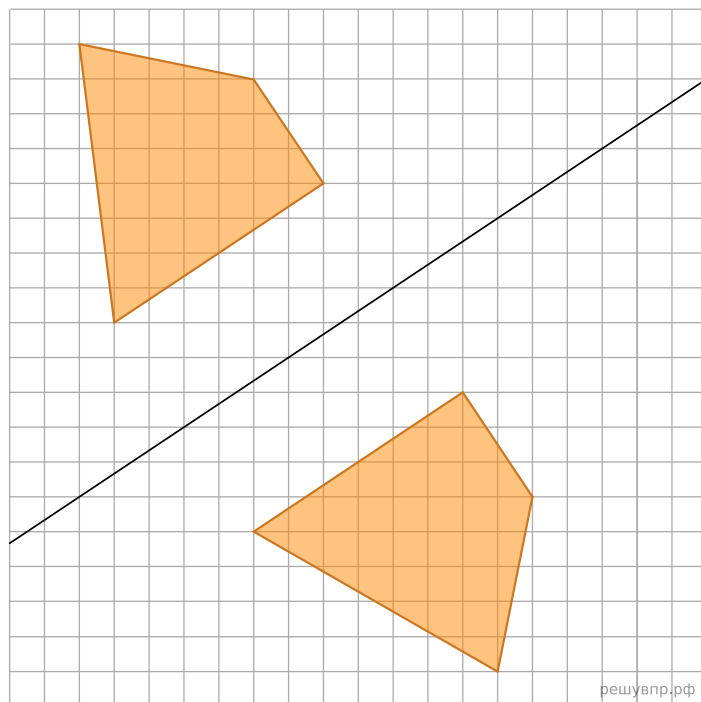
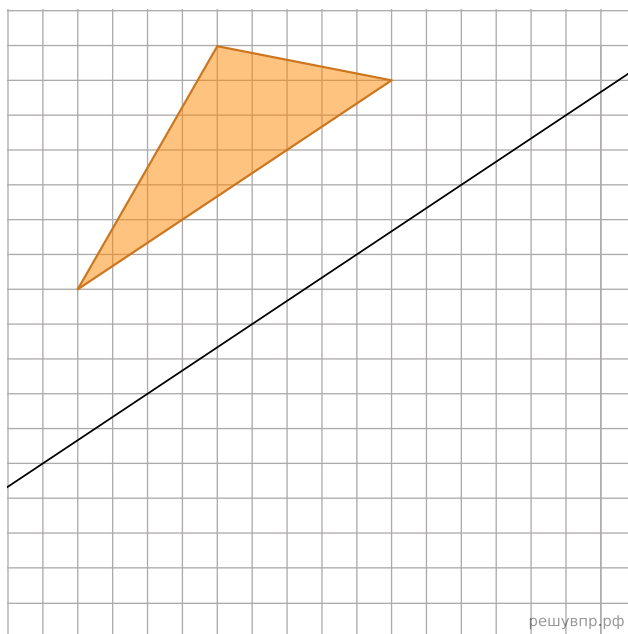


Рис. 2

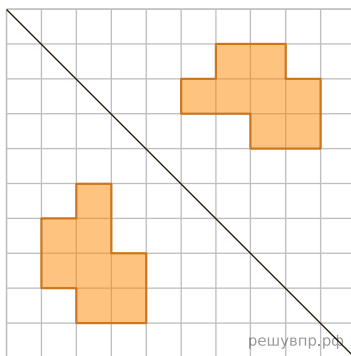
37. Рома нарисовал фигуру на квадратном листке и сложил его (линия сгиба обозначена на рисунке). Получился отпечаток. На рисунке показана фигура и полученный отпечаток.



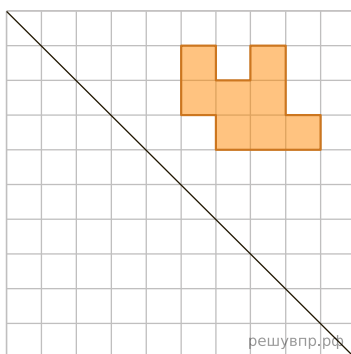
Затем на таком же листке Рома нарисовал другую фигуру и сложил листок так же, как и первый листок (линия сгиба обозначена на рисунке). Нарисуйте получившийся отпечаток.



38. Денис закрасил несколько клеточек на квадратном листке и сложил его по диагонали. Получился отпечаток.



Затем на таком же листке Денис закрасил несколько клеточек и тоже сложил листок по диагонали. Нарисуйте получившийся отпечаток.



39. На рисунке 1 показаны фигуры, симметричные относительно точки O . На рисунке 2 показаны фигура и точка O . Нарисуйте фигуру, симметричную данной фигуре относительно точки O , на рисунке 2.

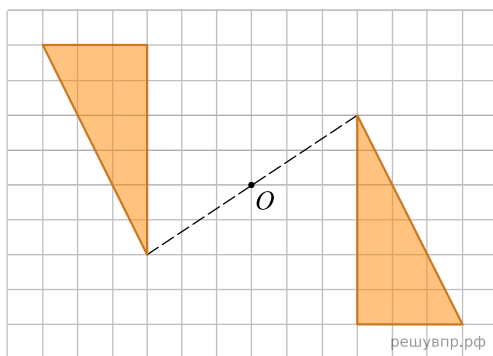


Рис. 1

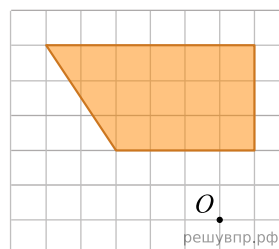
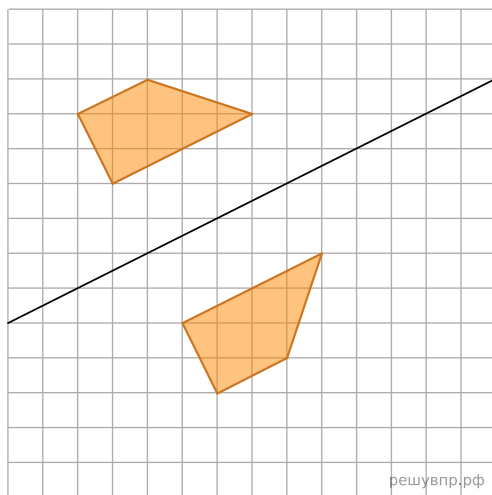
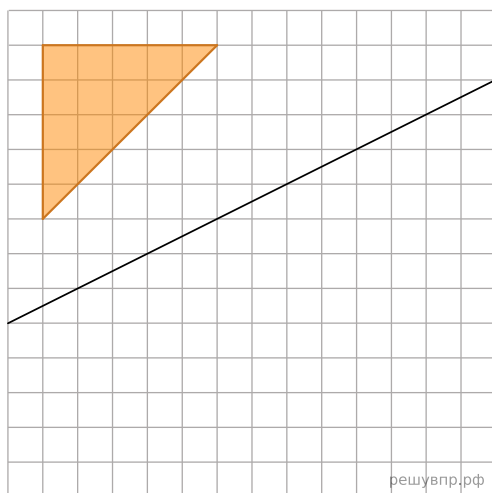


Рис. 2

40. Оля нарисовала фигуру на квадратном листке и сложила его (линия сгиба обозначена на рисунке). Получился отпечаток. На рисунке показана фигура и полученный отпечаток.



Затем на таком же листке Оля нарисовала другую фигуру и сложила листок так же, как и первый листок (линия сгиба обозначена на рисунке). Нарисуйте получившийся отпечаток.



41. На рисунке 1 показаны фигуры, симметричные относительно точки O . На рисунке 2 показаны фигура и точка O . Нарисуйте фигуру, симметричную данной фигуре относительно точки O , на рисунке 2.

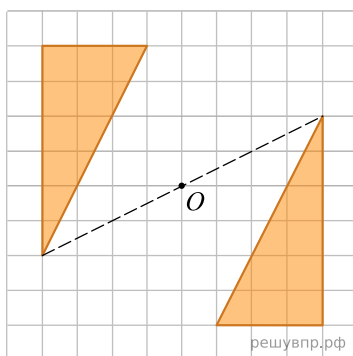


Рис. 1

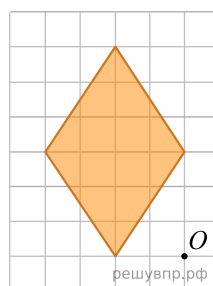


Рис. 2

42. На рисунке 1 показаны фигуры, симметричные относительно точки O . На рисунке 2 показаны фигура и точка O . Нарисуйте фигуру, симметричную данной фигуре относительно точки O , на рисунке 2.

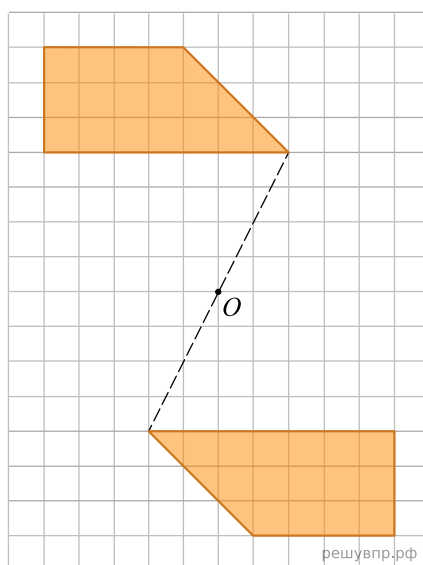


Рис. 1

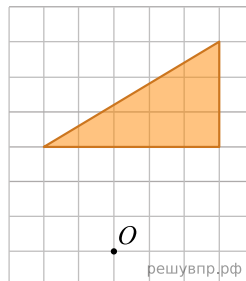


Рис. 2

43. На рисунке 1 показаны фигуры, симметричные относительно точки O . На рисунке 2 показаны фигура и точка O . Нарисуйте фигуру, симметричную данной фигуре относительно точки O , на рисунке 2.

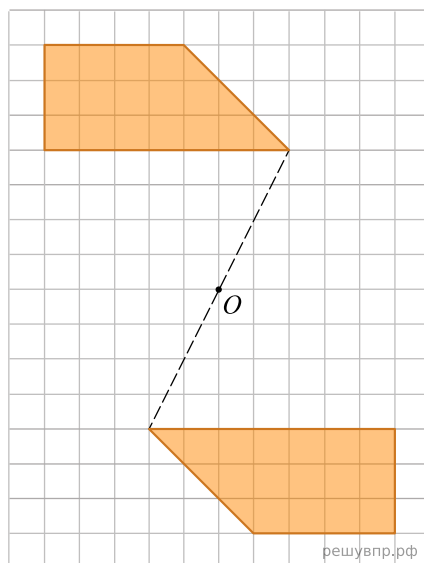


Рис. 1

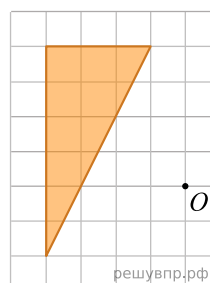


Рис. 2

44. На рисунке 1 показаны фигуры, симметричные относительно точки O . На рисунке 2 показаны фигура и точка O . Нарисуйте фигуру, симметричную данной фигуре относительно точки O , на рисунке 2.

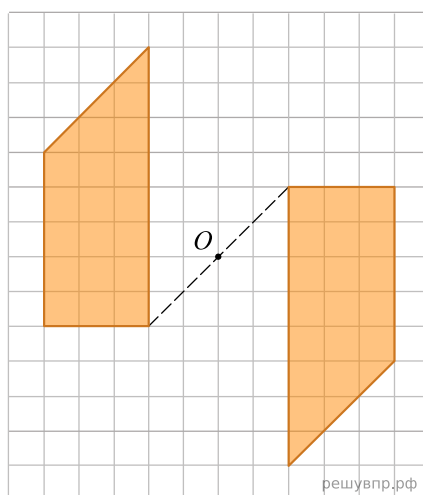


Рис. 1

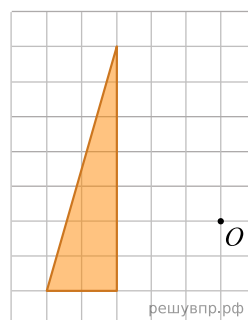


Рис. 2

45. На рисунке 1 показаны фигуры, симметричные относительно точки O . На рисунке 2 показаны фигура и точка O . Нарисуйте фигуру, симметричную данной фигуре относительно точки O , на рисунке 2.

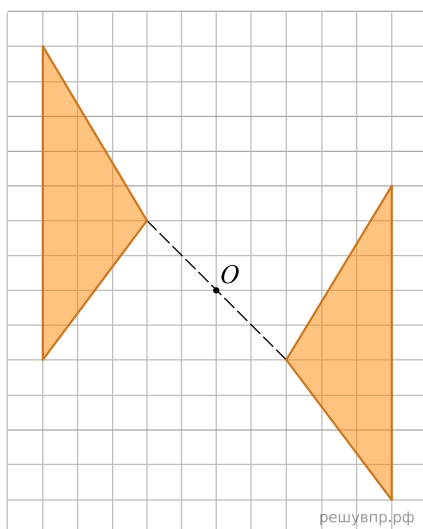


Рис. 1

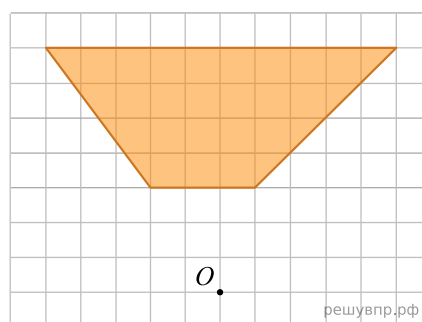


Рис. 2

46. На рисунке 1 показаны фигуры, симметричные относительно точки O . На рисунке 2 показаны фигура и точка O . Нарисуйте фигуру, симметричную данной фигуре относительно точки O , на рисунке 2.

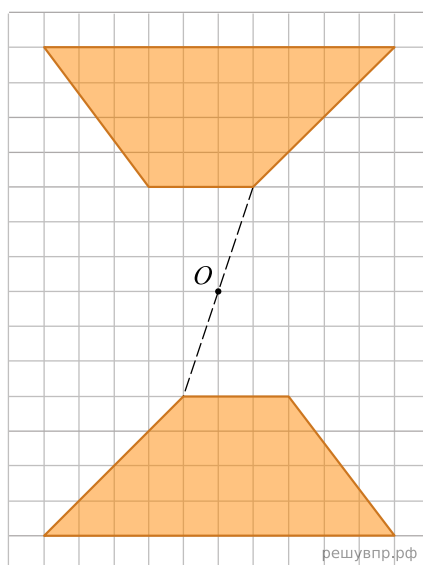


Рис. 1

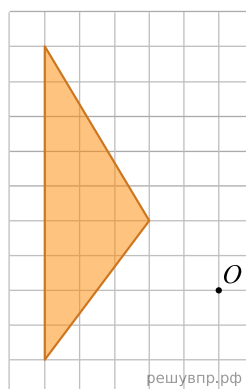
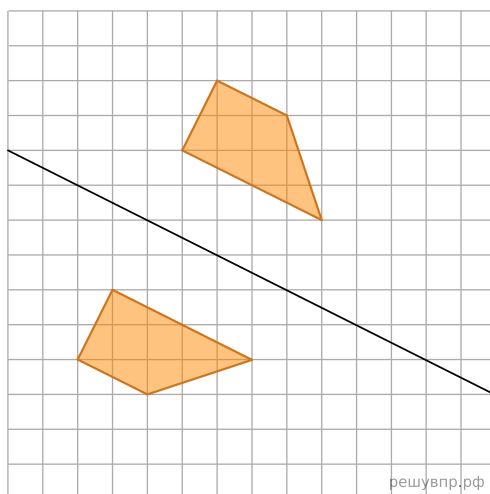
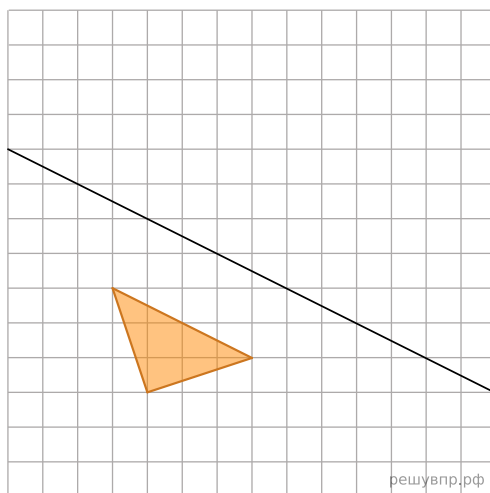


Рис. 2

47. Коля нарисовал фигуру на квадратном листке и сложил его (линия сгиба обозначена на рисунке). Получился отпечаток. На рисунке показана фигура и полученный отпечаток.



Затем на таком же листке Коля нарисовал другую фигуру и сложил листок так же, как и первый листок (линия сгиба обозначена на рисунке). Нарисуйте получившийся отпечаток.



48. На рисунке 1 показаны фигуры, симметричные относительно точки O . На рисунке 2 показаны фигура и точка O . Нарисуйте фигуру, симметричную данной фигуре относительно точки O , на рисунке 2.

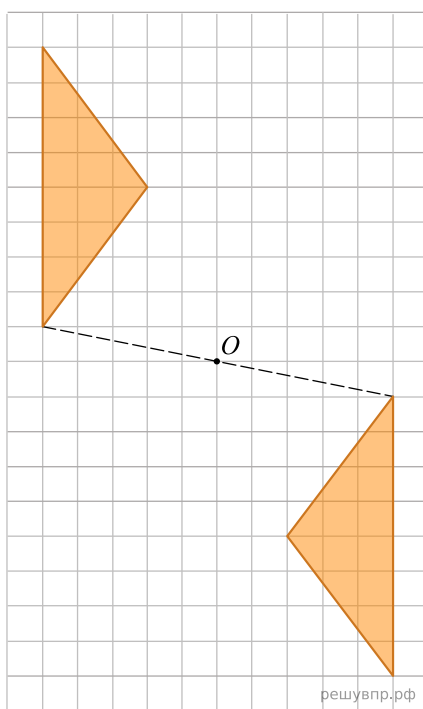


Рис. 1

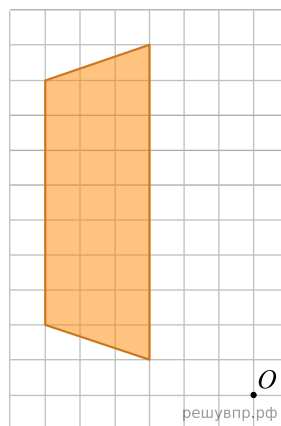
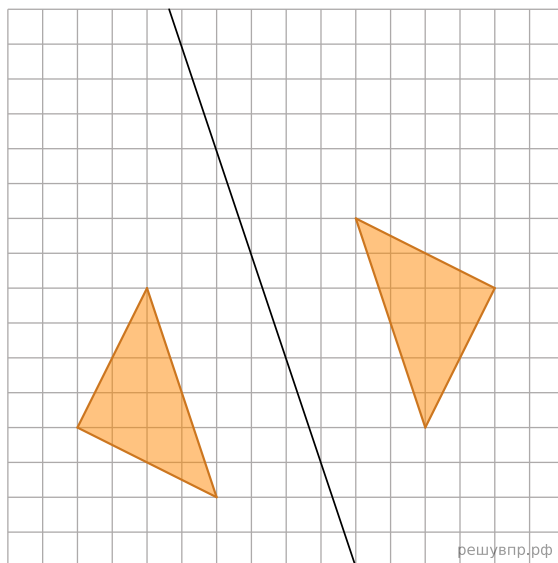
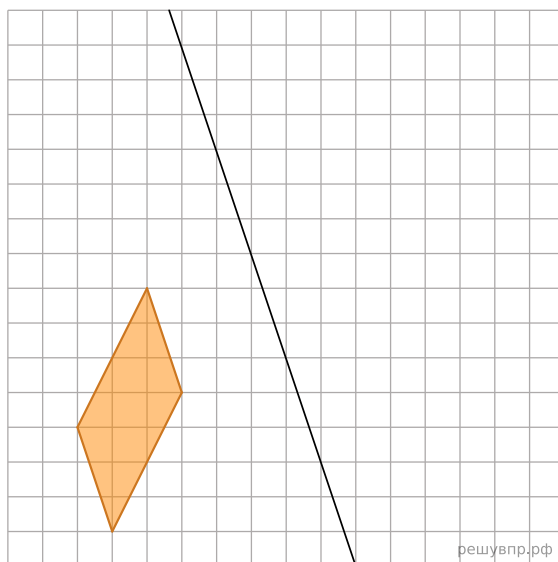


Рис. 2

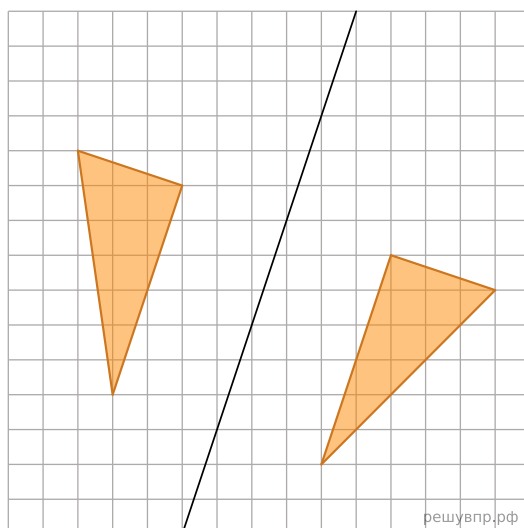
49. Лёша нарисовал фигуру на квадратном листке и сложил его (линия сгиба обозначена на рисунке). Получился отпечаток. На рисунке показана фигура и полученный отпечаток.



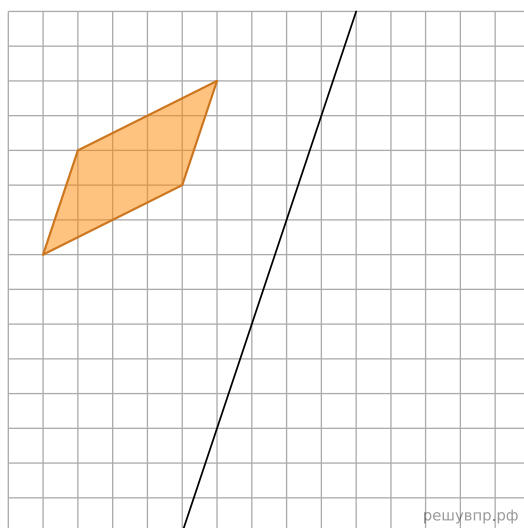
Затем на таком же листке Лёша нарисовал другую фигуру и сложил листок так же, как и первый листок (линия сгиба обозначена на рисунке). Нарисуйте получившийся отпечаток.



50. Катя нарисовала фигуру на квадратном листке и сложила его (линия сгиба обозначена на рисунке). Получился отпечаток. На рисунке показана фигура и полученный отпечаток.



Затем на таком же листке Катя нарисовала другую фигуру и сложила листок так же, как и первый листок (линия сгиба обозначена на рисунке). Нарисуйте получившийся отпечаток.



51. На рисунке 1 показаны фигуры, симметричные относительно точки O . На рисунке 2 показаны фигура и точка O . Нарисуйте фигуру, симметричную данной фигуре относительно точки O , на рисунке 2.

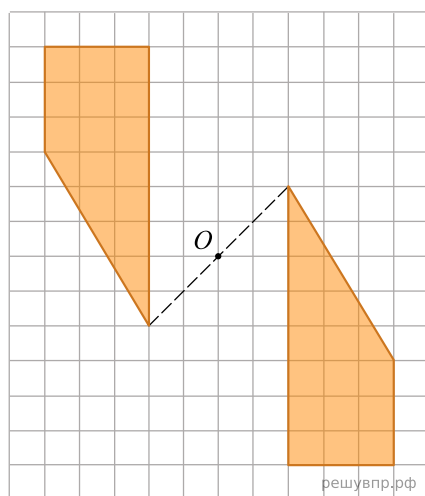


Рис. 1

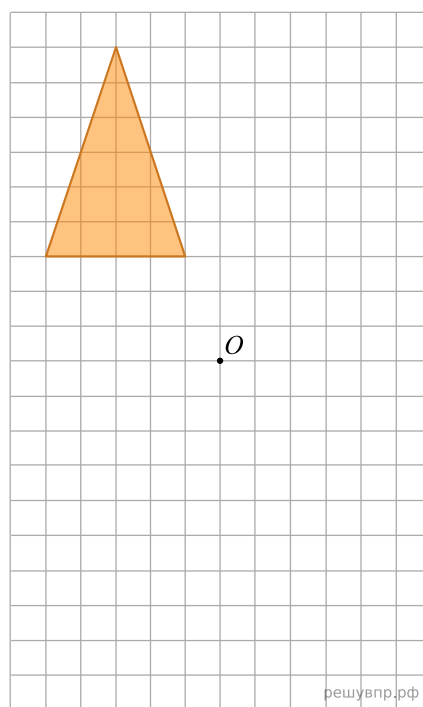
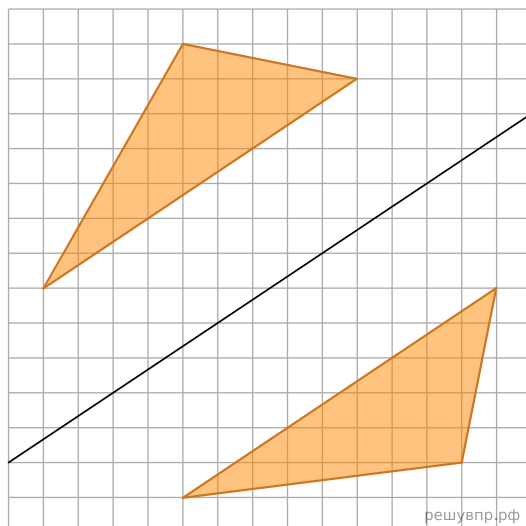


Рис. 2

52. Вадим нарисовал фигуру на квадратном листке и сложил его (линия сгиба обозначена на рисунке). Получился отпечаток. На рисунке показана фигура и полученный отпечаток.



Затем на таком же листке Вадим нарисовал другую фигуру и сложил листок так же, как и первый листок (линия сгиба обозначена на рисунке). Нарисуйте получившийся отпечаток.

