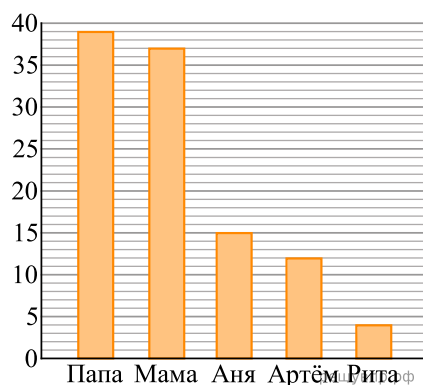
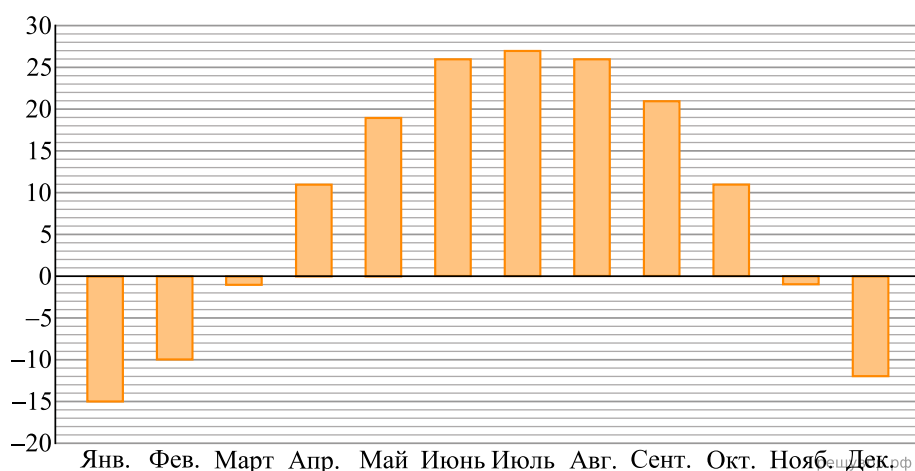


1. В семье трое детей. Сын Артем составил диаграмму возрастов членов семьи.



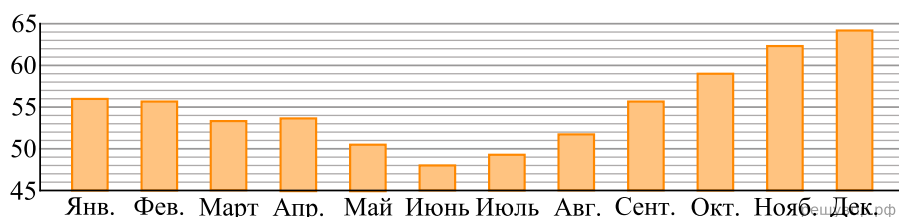
Определите по диаграмме, на сколько лет Артем старше своей младшей сестры.

2. На диаграмме показана средняя дневная температура в каждом месяце в городе Харбине. На вертикальной оси указана температура в градусах Цельсия, на горизонтальной — месяцы.



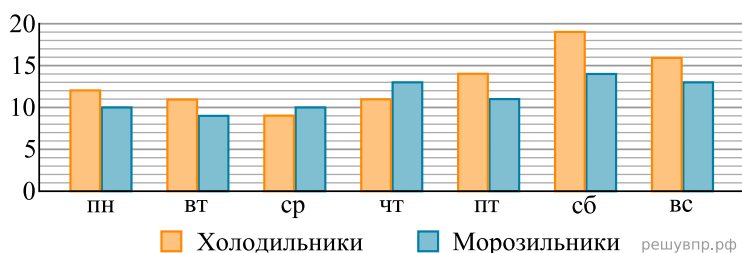
Сколько месяцев в году средняя температура в Харбине превышает  $12^{\circ}\text{C}$ ?

3. На диаграмме показана средняя цена нефти в 2017 году по месяцам (в долларах США за 1 баррель).



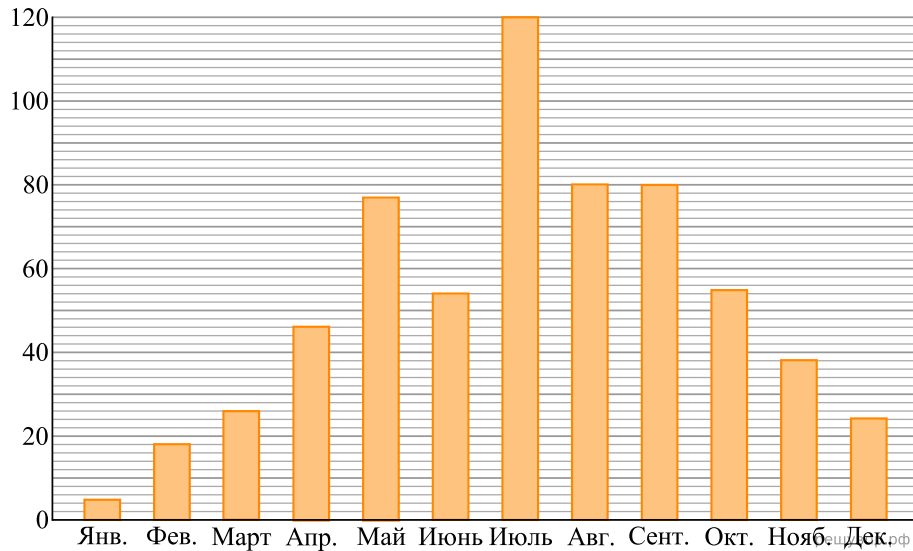
Сколько в 2017 году было месяцев, когда средняя цена нефти превышала 52 доллара за баррель?

4. Магазин «Айсберг» продаёт холодильники и морозильники. На диаграмме показано, сколько холодильников и морозильников было продано за неделю в этом магазине. На вертикальной оси указано количество проданного товара, на горизонтальной — дни недели.



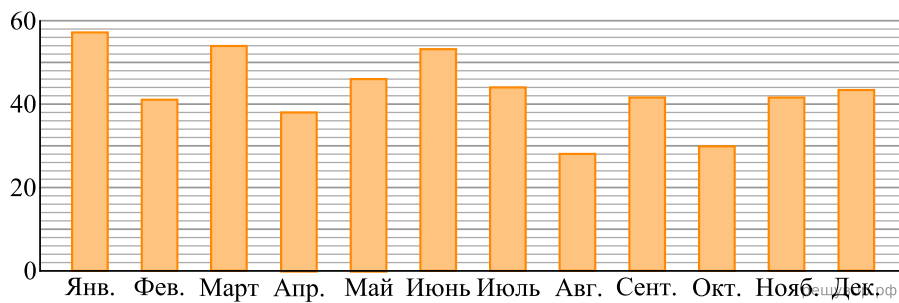
Определите, сколько всего морозильников продали в пятницу и субботу.

5. На диаграмме показано среднее количество осадков за каждый месяц во Владивостоке. На вертикальной оси указано количество осадков (в миллиметрах), на горизонтальной — месяцы.



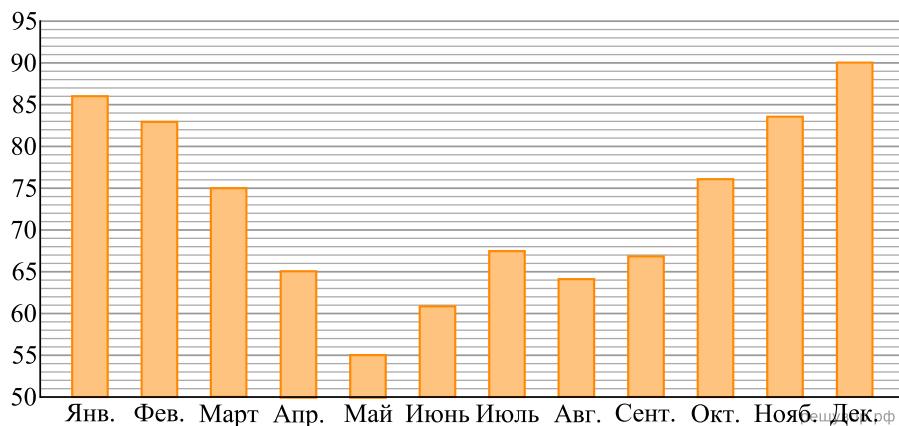
Определите, сколько месяцев в году среднее количество осадков во Владивостоке больше 50 мм.

6. На диаграмме показано среднее количество осадков за каждый месяц в Саратове. На вертикальной оси указано количество осадков (в миллиметрах), на горизонтальной — месяцы.

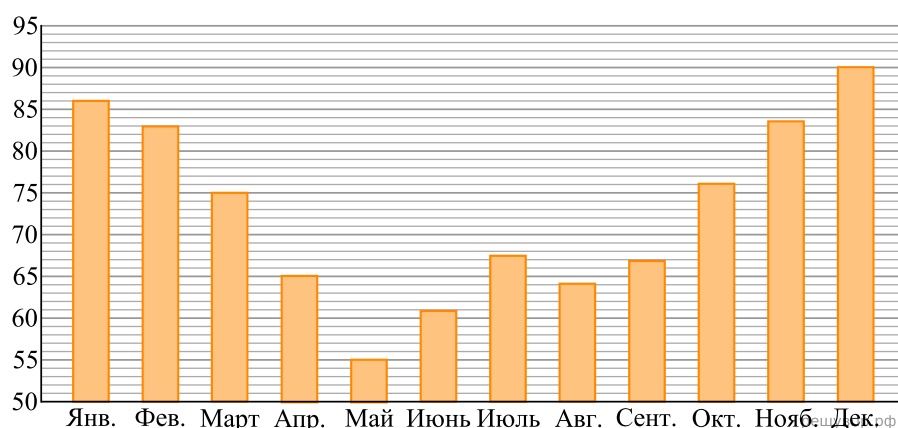


Определите, сколько месяцев в году среднее количество осадков в Саратове больше 50 мм.

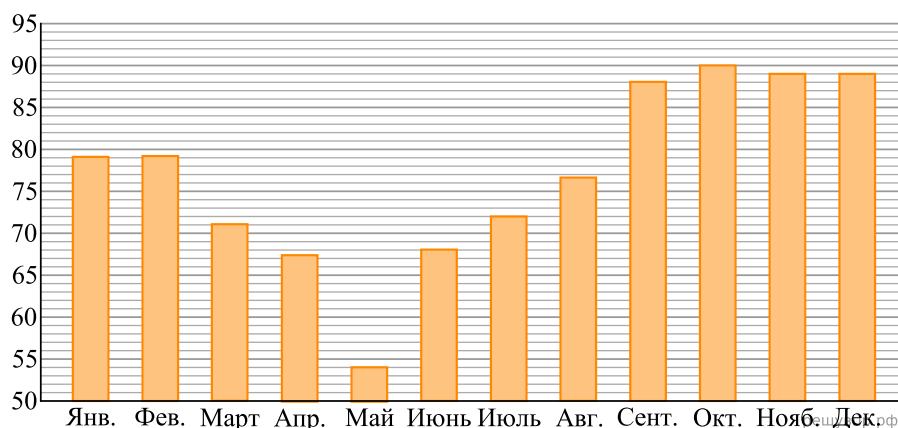
7. На диаграмме показана средняя влажность воздуха в Воронеже в каждом месяце. По вертикали указана влажность воздуха в процентах, по горизонтали — месяцы. В каком месяце первого полугодия средняя влажность воздуха была самой низкой? В ответе укажите название месяца.



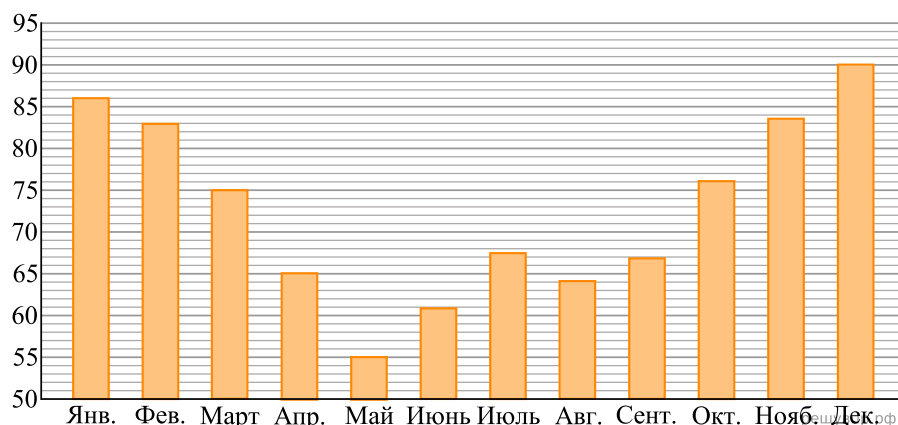
8. На диаграмме показана средняя влажность воздуха в Воронеже в каждом месяце. По вертикали указана влажность воздуха в процентах, по горизонтали — месяцы. В каком месяце второго полугодия средняя влажность воздуха была самой низкой? В ответе укажите название месяца.



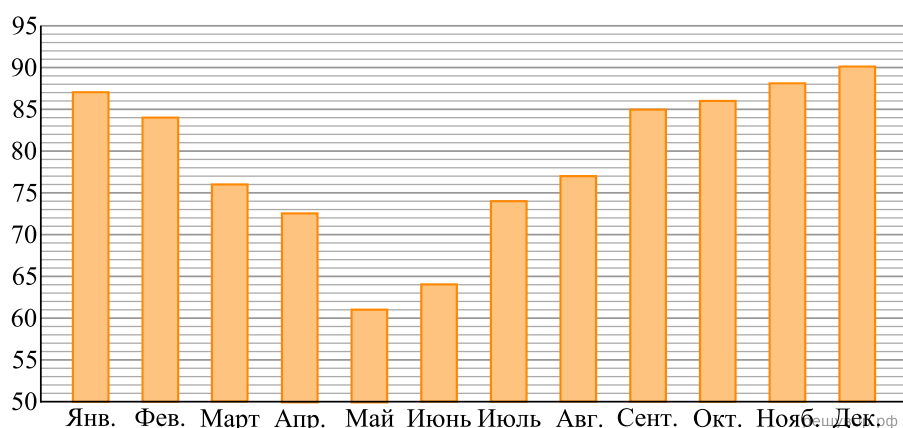
9. На диаграмме показана средняя влажность воздуха в Перми в каждом месяце. По вертикали указана влажность воздуха в процентах, по горизонтали — месяцы. В каком месяце второго полугодия средняя влажность воздуха была самой высокой? В ответе укажите название месяца в именительном падеже.



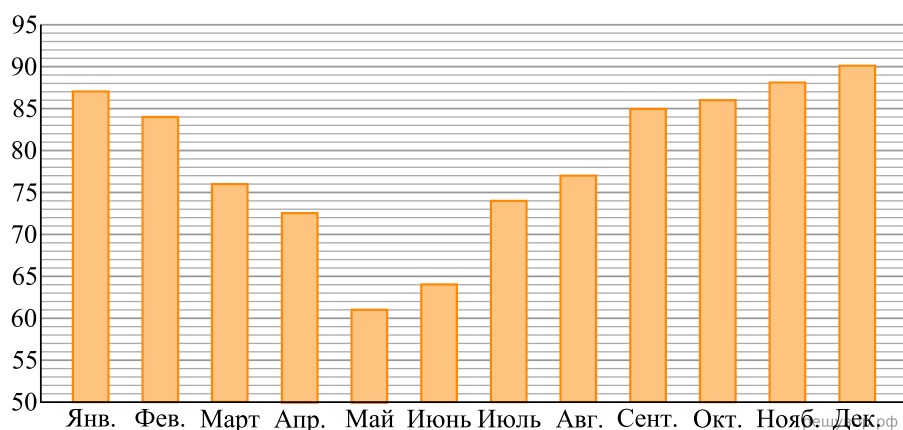
10. На диаграмме показана средняя влажность воздуха в Перми в каждом месяце. По вертикали указана влажность воздуха в процентах, по горизонтали — месяцы. В каком месяце второго полугодия средняя влажность воздуха была самой низкой? В ответе укажите название месяца.



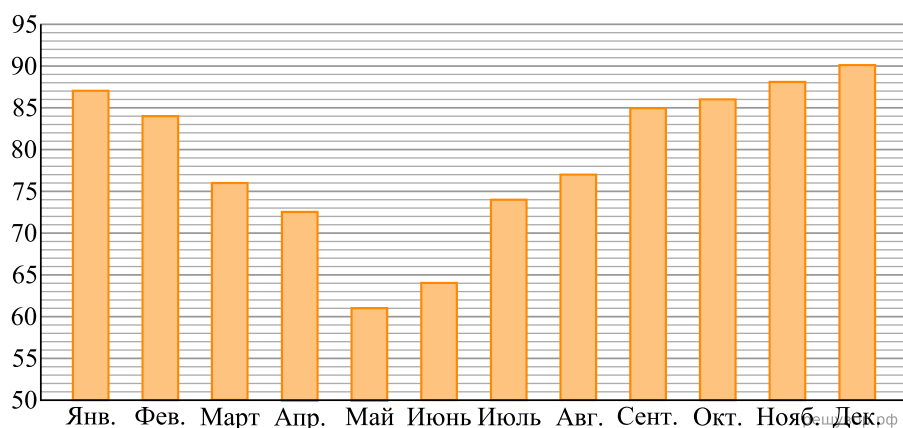
**11.** На диаграмме показана средняя влажность воздуха в Петрозаводске в каждом месяце. По вертикали указана влажность воздуха в процентах, по горизонтали — месяцы. В каком месяце второго полугодия средняя влажность воздуха была самой высокой? В ответе укажите название месяца.



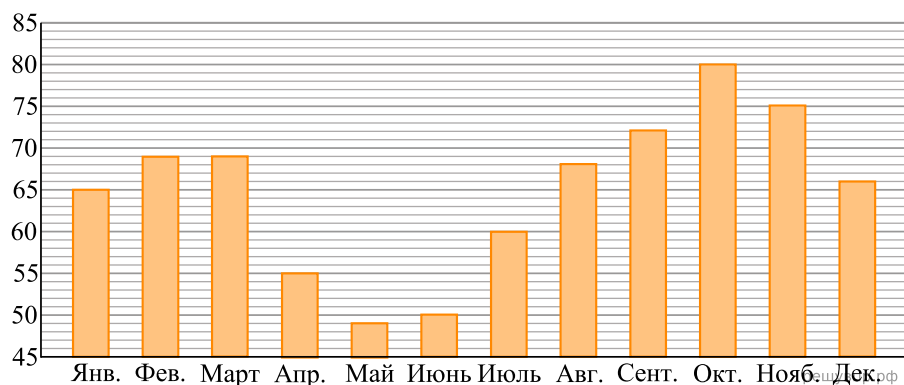
**12.** На диаграмме показана средняя влажность воздуха в Петрозаводске в каждом месяце. По вертикали указана влажность воздуха в процентах, по горизонтали — месяцы. В каком месяце второго полугодия средняя влажность воздуха была самой низкой? В ответе укажите название месяца.



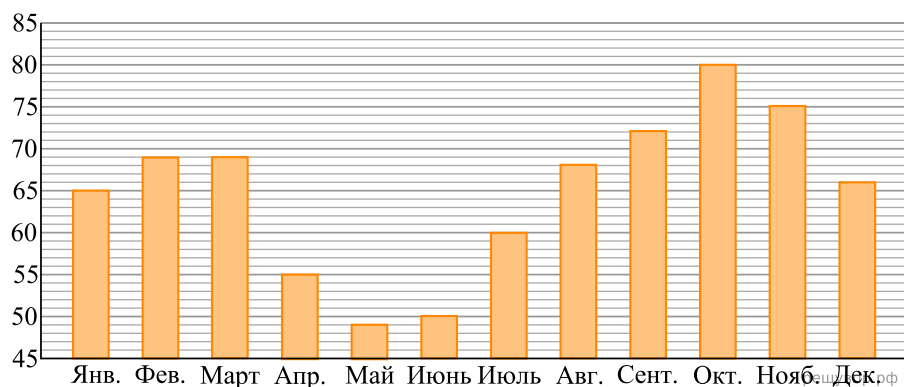
**13.** На диаграмме показана средняя влажность воздуха в Смоленске в каждом месяце. По вертикали указана влажность воздуха в процентах, по горизонтали — месяцы. В каком месяце второго полугодия средняя влажность воздуха была самой высокой? В ответе укажите название месяца.



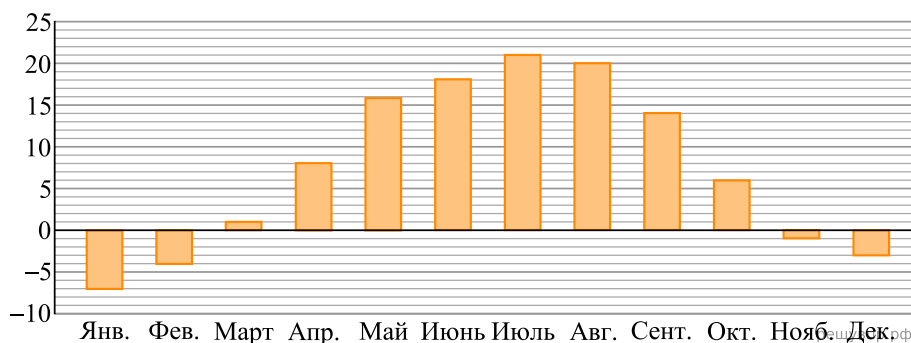
**14.** На диаграмме показана средняя влажность воздуха в Якутске в каждом месяце. По вертикали указана влажность воздуха в процентах, по горизонтали — месяцы. В каком месяце второго полугодия средняя влажность воздуха была самой высокой? В ответе укажите название месяца.



**15.** На диаграмме показана средняя влажность воздуха в Якутске в каждом месяце. По вертикали указана влажность воздуха в процентах, по горизонтали — месяцы. В каком месяце второго полугодия средняя влажность воздуха была самой низкой? В ответе укажите название месяца.



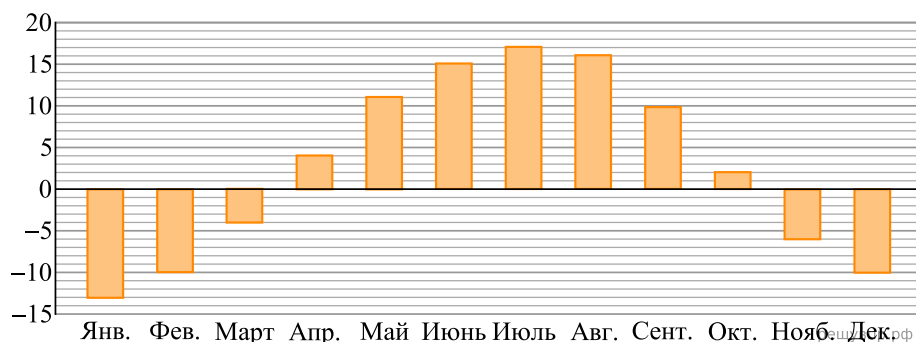
**16.** На диаграмме показана средняя температура воздуха в Воронеже в каждом месяце. По вертикали указана температура воздуха в градусах Цельсия, по горизонтали — месяцы. В каком месяце второго полугодия средняя температура воздуха была самой низкой? В ответе укажите название месяца.



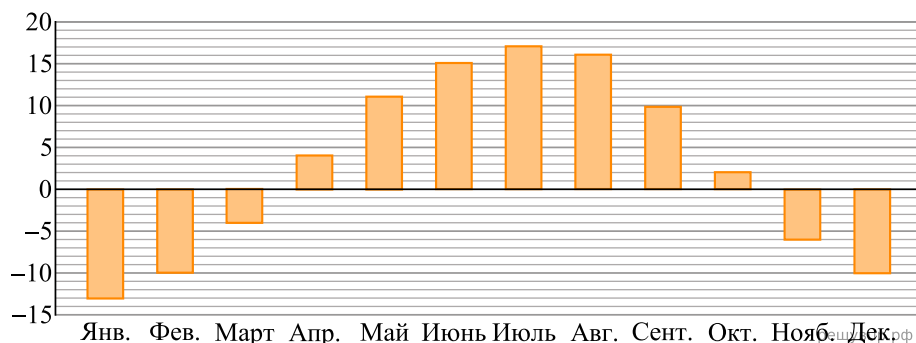
17. На диаграмме показана средняя температура воздуха в Воронеже в каждом месяце. По вертикали указана температура воздуха в градусах Цельсия, по горизонтали — месяцы. В каком месяце первого полугодия средняя температура воздуха была самой высокой? В ответе укажите название месяца.



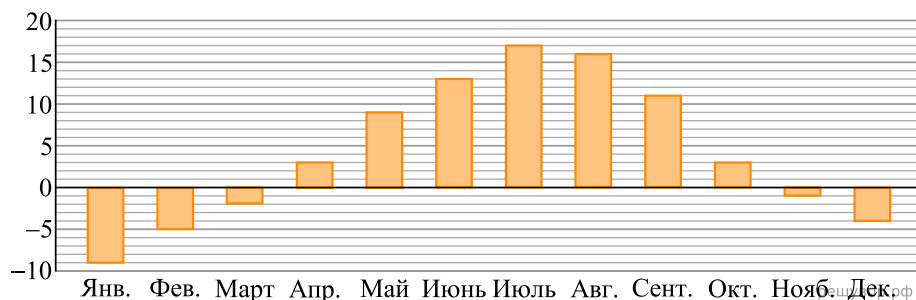
18. На диаграмме показана средняя температура воздуха в Перми в каждом месяце. По вертикали указана температура воздуха в градусах Цельсия, по горизонтали — месяцы. В каком месяце первого полугодия средняя температура воздуха была самой высокой? В ответе укажите название месяца.



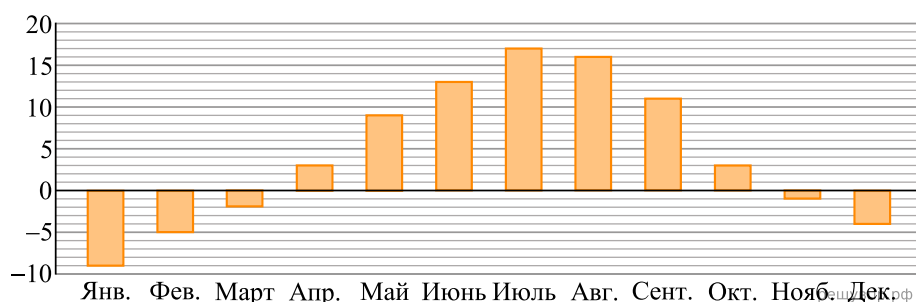
19. На диаграмме показана средняя температура воздуха в Перми в каждом месяце. По вертикали указана температура воздуха в градусах Цельсия, по горизонтали — месяцы. В каком месяце второго полугодия средняя температура воздуха была самой низкой? В ответе укажите название месяца.



20. На диаграмме показана средняя температура воздуха в Петрозаводске в каждом месяце. По вертикали указана температура воздуха в градусах Цельсия, по горизонтали — месяцы. В каком месяце первого полугодия средняя температура воздуха была самой низкой? В ответе укажите название месяца.



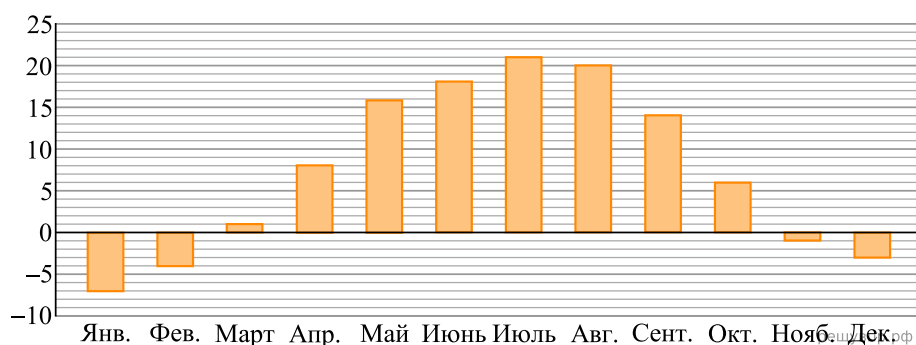
**21.** На диаграмме показана средняя температура воздуха в Петрозаводске в каждом месяце. По вертикали указана температура воздуха в градусах Цельсия, по горизонтали — месяцы. В каком месяце первого полугодия средняя температура воздуха была самой высокой? В ответе укажите название месяца.



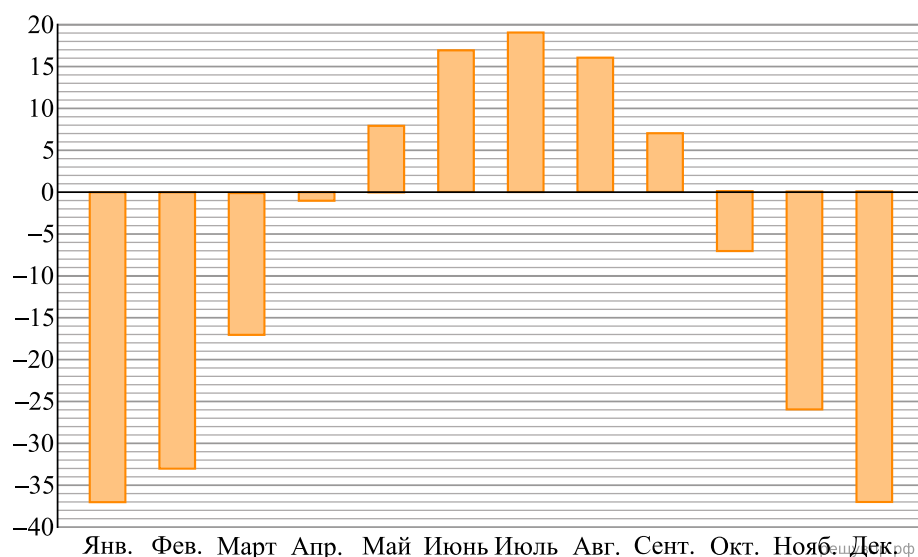
**22.** На диаграмме показана средняя температура воздуха в Смоленске в каждом месяце. По вертикали указана температура воздуха в градусах Цельсия, по горизонтали — месяцы. В каком месяце первого полугодия средняя температура воздуха была самой высокой? В ответе укажите название месяца.



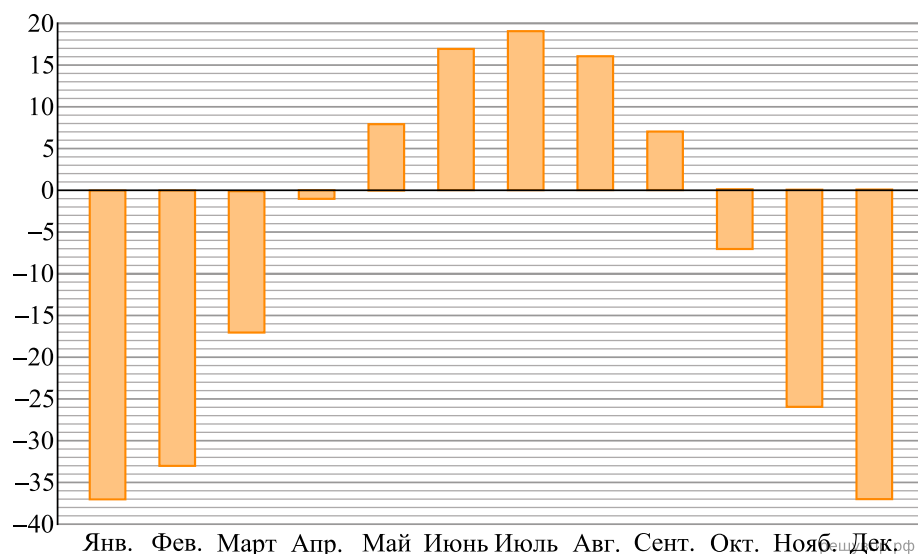
**23.** На диаграмме показана средняя температура воздуха в Смоленске в каждом месяце. По вертикали указана температура воздуха в градусах Цельсия, по горизонтали — месяцы. В каком месяце второго полугодия средняя температура воздуха была самой низкой? В ответе укажите название месяца.



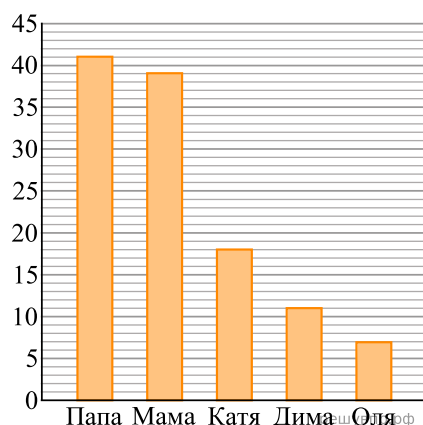
**24.** На диаграмме показана средняя температура воздуха в Якутске в каждом месяце. По вертикали указана температура воздуха в градусах Цельсия, по горизонтали — месяцы. В каком месяце первого полугодия средняя температура воздуха была самой высокой? В ответе укажите название месяца.



**25.** На диаграмме показана средняя температура воздуха в Якутске в каждом месяце. По вертикали указана температура воздуха в градусах Цельсия, по горизонтали — месяцы. В каком месяце второго полугодия средняя температура воздуха была самой высокой? В ответе укажите название месяца.

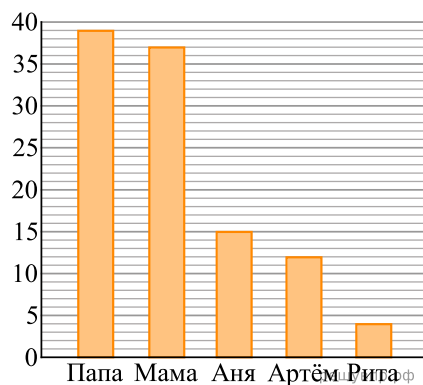


**26.** В семье трое детей. Сын Дима составил диаграмму возрастов членов семьи. Определите по диаграмме, на сколько лет Дима младше Кати.

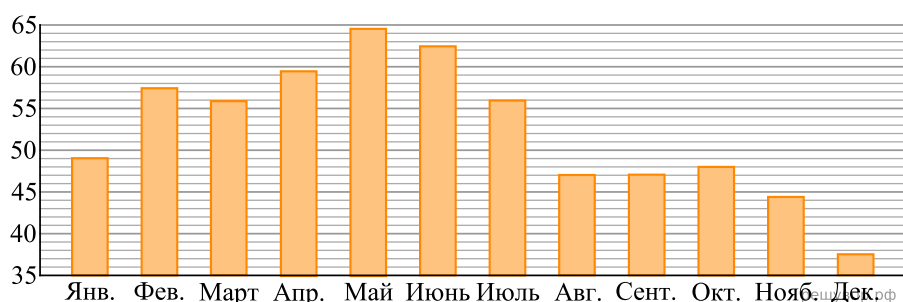




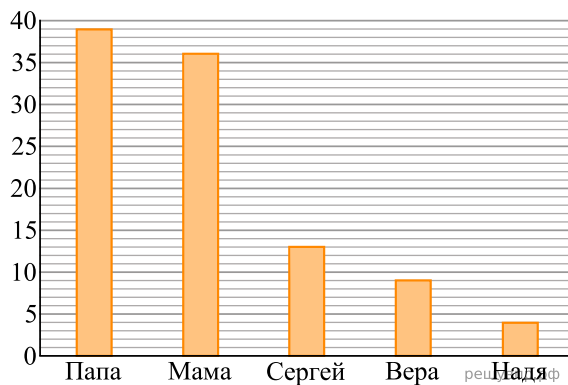
**27.** В семье трое детей. Сын Артём составил диаграмму возрастов членов семьи. Определите по диаграмме, на сколько лет Артём старше Риты.



**28.** На диаграмме показана средняя цена нефти в 2015 году по месяцам (в долларах США за 1 баррель). Определите по диаграмме, сколько месяцев в 2015 году средняя цена нефти была больше 55 долларов США за баррель.

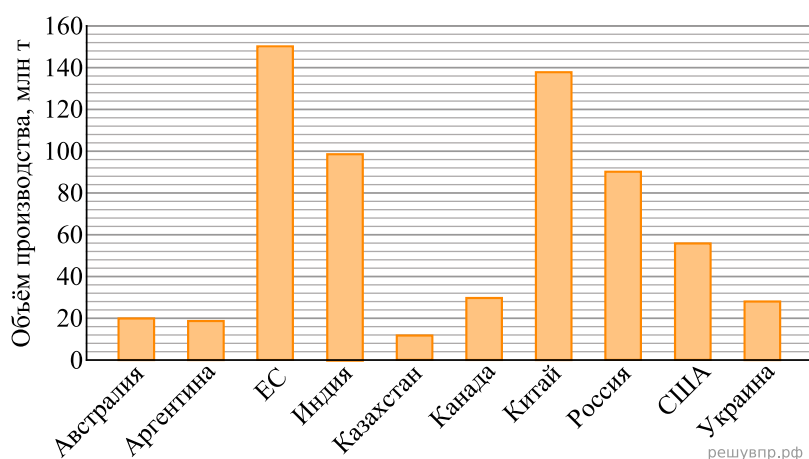


**29.** В семье трое детей. Дочь Вера составила диаграмму возрастов членов семьи. По вертикали указан возраст (лет), по горизонтали — члены семьи.



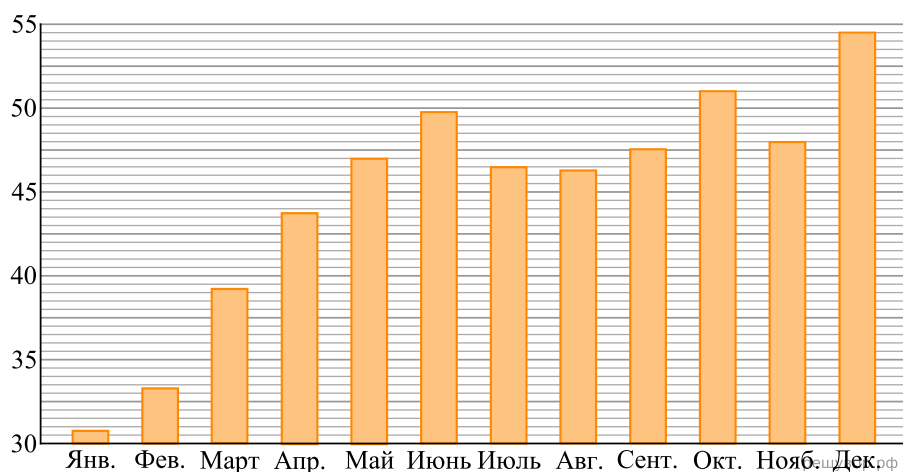
Определите по диаграмме, на сколько лет Вера младше Сергея.

**30.** На диаграмме показаны объёмы производства пшеницы с 1 июля 2017 года по 30 июня 2018 года 10 крупнейших производителей пшеницы: девяти стран и Европейского союза (на диаграмме обозначен ЕС).

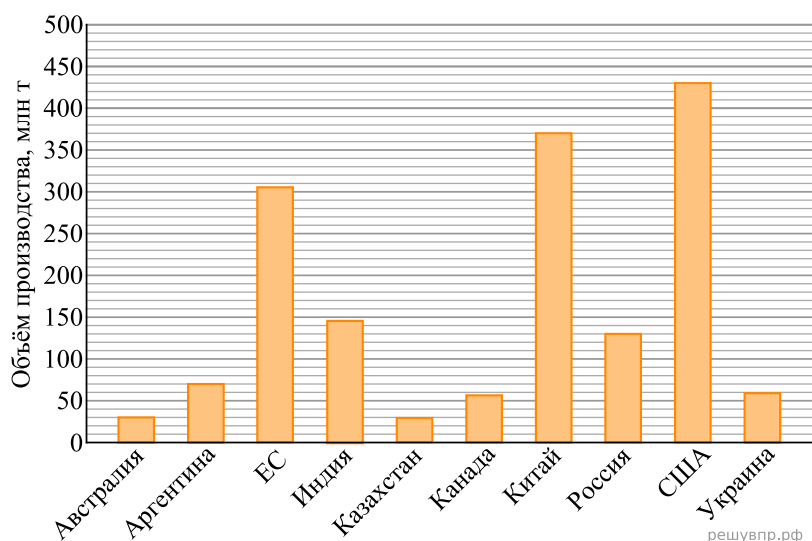


Китай занимал 2 место. Определите по диаграмме, какое место по производству пшеницы занимала Аргентина.

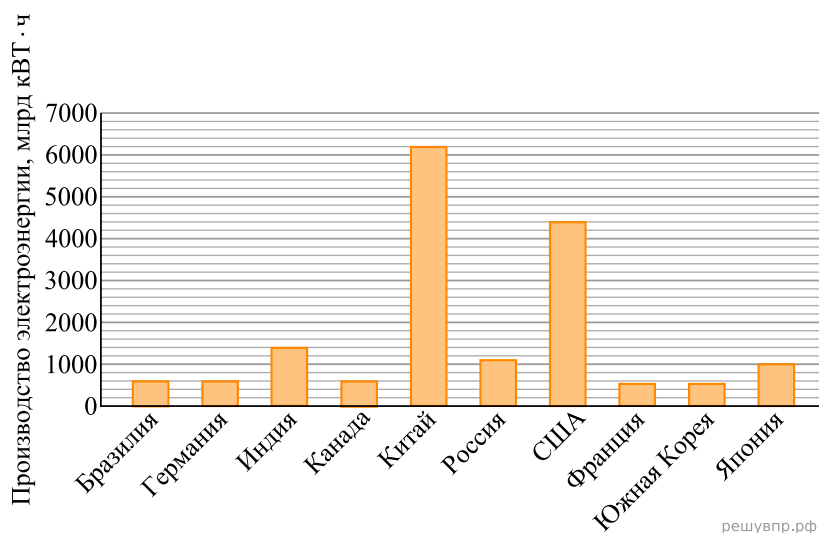
**31.** На диаграмме показана средняя цена нефти в 2016 году по месяцам (в долларах США за 1 баррель). Определите по диаграмме, сколько месяцев в 2016 году средняя цена нефти была больше 49 долларов США за баррель.



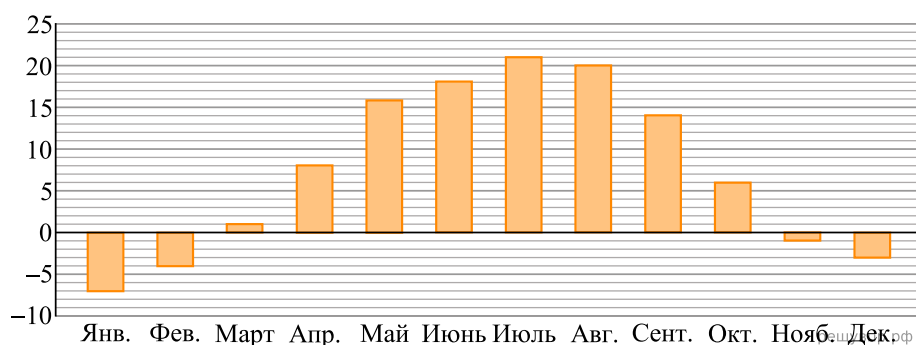
32. На диаграмме показаны объёмы производства зерна с 1 июля 2017 года по 30 июня 2018 года 10 крупнейших производителей зерна: девяти стран и Европейского союза (на диаграмме обозначен ЕС). Определите по диаграмме, сколько производителей с 1 июля 2017 года по 30 июня 2018 года получили больше 200 млн т зерна.



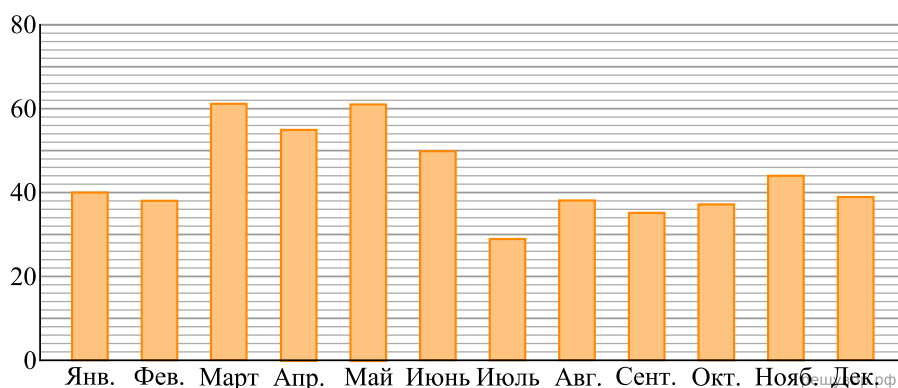
33. На диаграмме показаны данные о производстве электроэнергии в 10 странах, которые являются крупнейшими производителями электроэнергии в мире. Определите по диаграмме, сколько стран производит электроэнергии больше 2400 млрд кВт · ч.



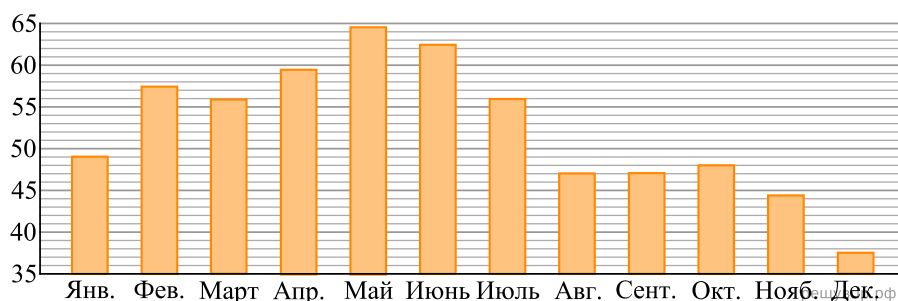
34. На диаграмме показана средняя температура воздуха в Воронеже в каждом месяце. По вертикали указана температура воздуха в градусах Цельсия, по горизонтали — месяцы. В каком месяце первого полугодия средняя температура воздуха была самой высокой?



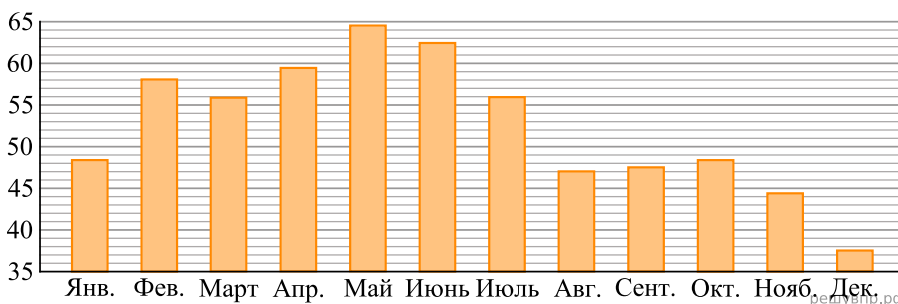
**35.** На диаграмме показано среднее количество выпавших атмосферных осадков за каждый месяц в Оренбурге в течение года. На вертикальной оси указано количество осадков (в мм), на горизонтальной — месяцы. Определите по диаграмме, сколько месяцев в Оренбурге выпадало больше 55 мм осадков за месяц.



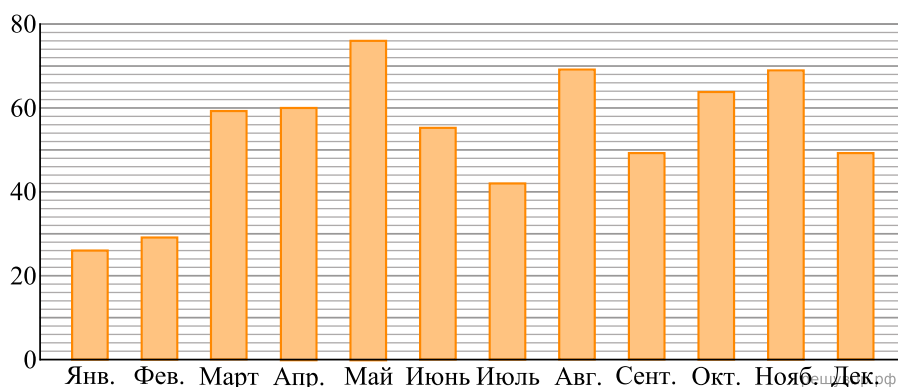
**36.** На диаграмме показана средняя цена нефти в 2015 году по месяцам (в долларах США за 1 баррель). Определите по диаграмме, сколько месяцев в 2015 году средняя цена нефти была меньше 59 долларов США за баррель.



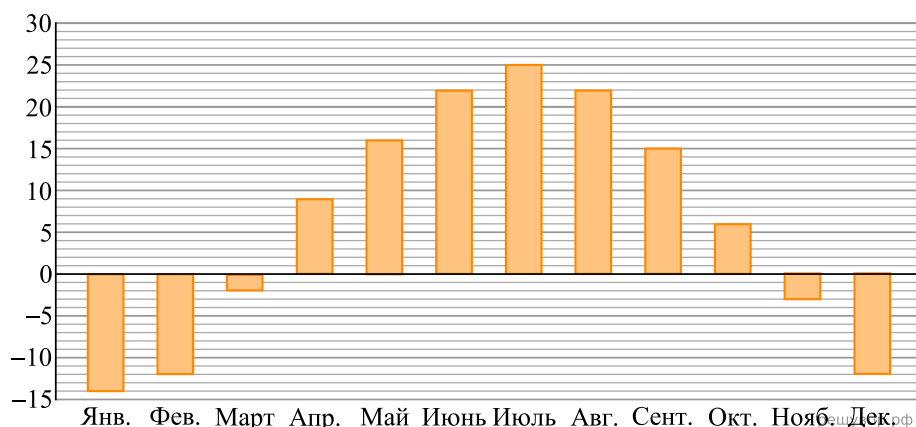
**37.** На диаграмме показана средняя цена нефти в 2015 году по месяцам (в долларах США за 1 баррель). Сколько в 2015 году было месяцев, когда средняя цена не превышала 48 долларов за баррель?



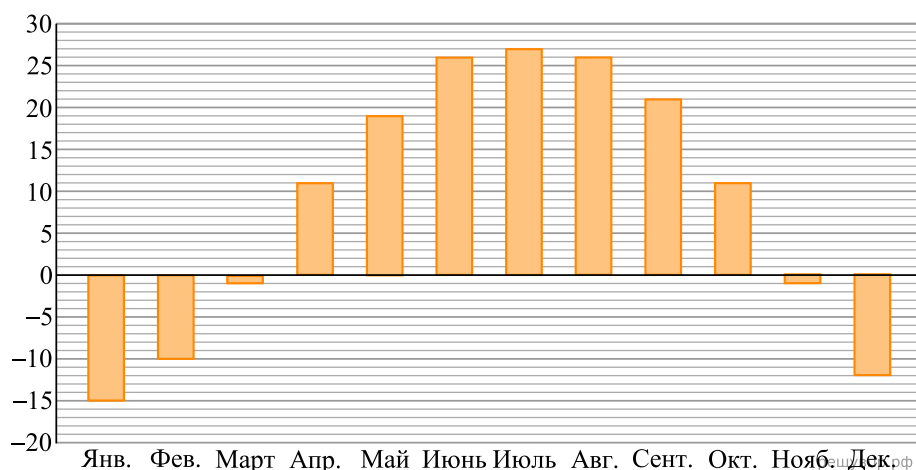
**38.** На диаграмме показано среднее количество выпавших атмосферных осадков за каждый месяц в Томске в течение года. На вертикальной оси указано количество осадков (в мм), на горизонтальной — месяцы. Определите по диаграмме, сколько месяцев в Томске выпадало больше 70 мм осадков за месяц.



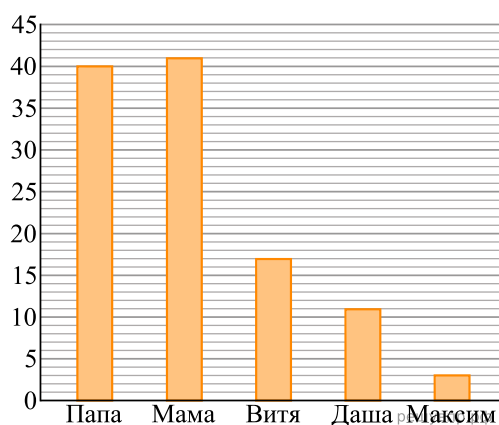
**39.** На диаграмме показана средняя дневная температура в каждом месяце в городе Барнауле. На вертикальной оси указана температура в градусах Цельсия, на горизонтальной — месяцы. Сколько месяцев в году в Барнауле средняя дневная температура выше чем  $-4^{\circ}\text{C}$ ?



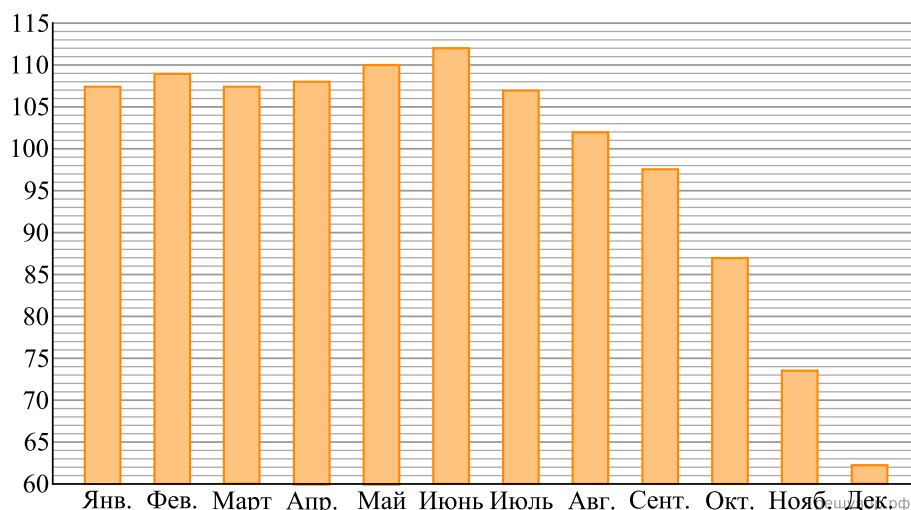
**40.** На диаграмме показана средняя дневная температура в каждом месяце в городе Харбине в течение года. На вертикальной оси указана температура (в градусах Цельсия), на горизонтальной — месяцы. Определите по диаграмме, сколько месяцев в Харбине средняя дневная температура была выше  $-11^{\circ}\text{C}$ .



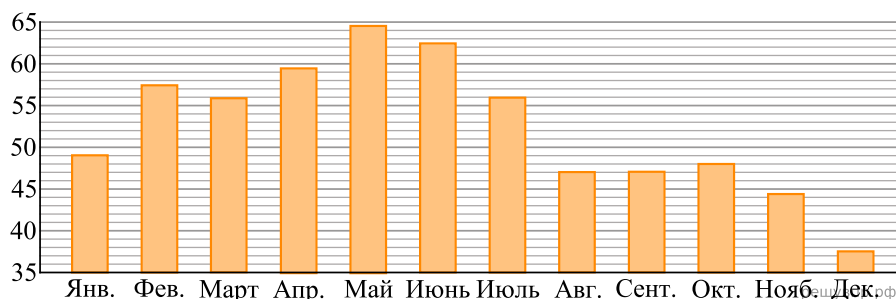
**41.** В семье трое детей. Сын Витя составил диаграмму возрастов членов семьи. По вертикали указан возраст (лет), по горизонтали — члены семьи. Определите по диаграмме, на сколько лет Витя старше Максима.



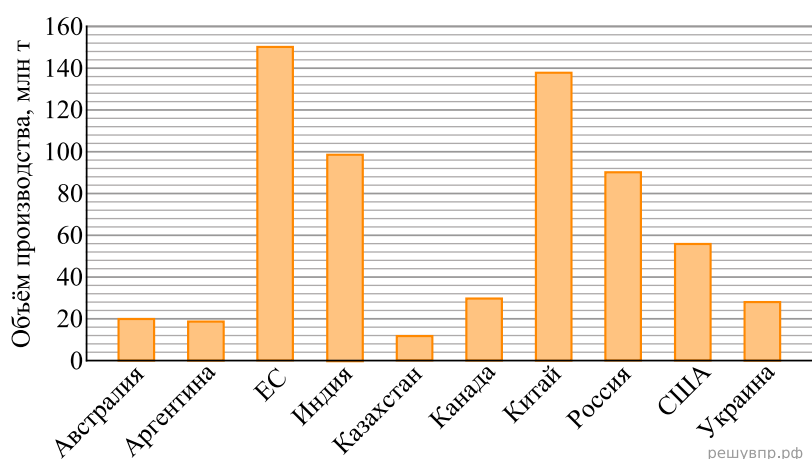
42. На диаграмме показана средняя цена нефти в 2014 году по месяцам (в долларах США за 1 баррель). Сколько в 2014 году было месяцев, когда средняя цена нефти превышала 92 доллара за баррель?



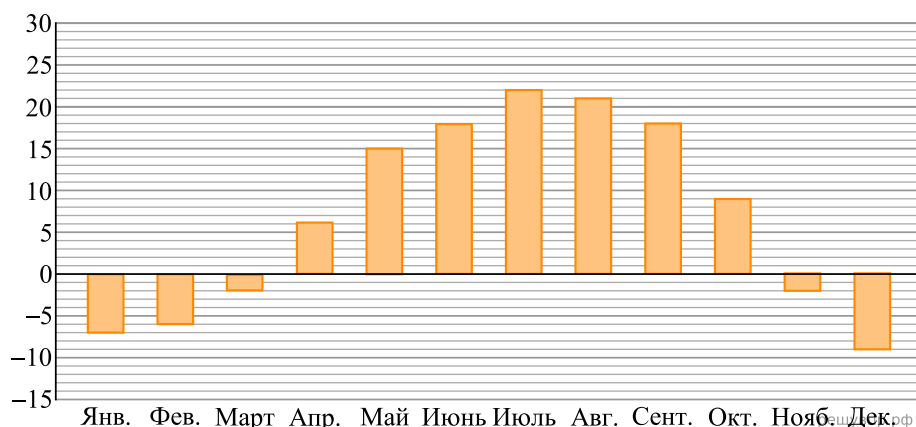
43. На диаграмме показана средняя цена нефти в 2015 году по месяцам (в долларах США за 1 баррель). Определите по диаграмме, сколько месяцев в 2015 году средняя цена нефти была меньше 44 долларов США за баррель.



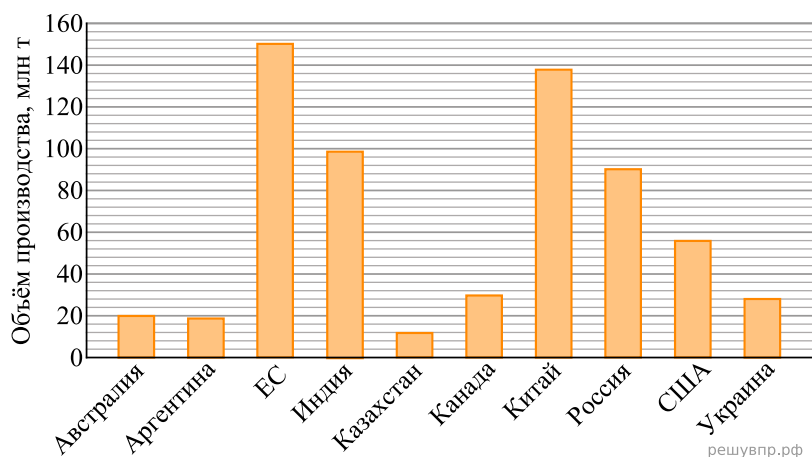
44. На диаграмме показаны объёмы производства пшеницы с 1 июля 2017 года по 30 июня 2018 года 10 крупнейших производителей пшеницы: девяти стран и Европейского союза (на диаграмме обозначен ЕС). Китай занимал 2 место. Определите по диаграмме, какое место по производству пшеницы занимала Канада.



45. На диаграмме показана средняя дневная температура в каждом месяце в городе Эдмонтон. На вертикальной оси указана температура в градусах Цельсия, на горизонтальной — месяцы. Сколько месяцев в году в Эдмонтоне средняя дневная температура положительна?



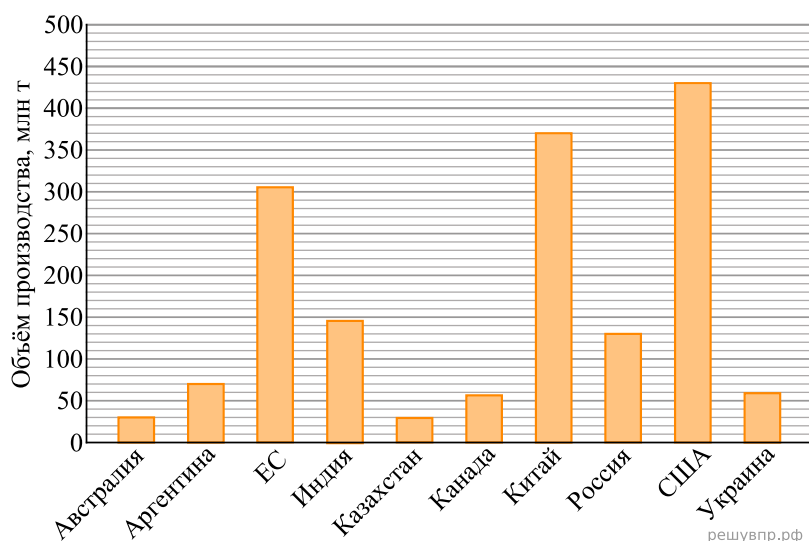
46. На диаграмме показаны объёмы производства пшеницы с 1 июля 2017 года по 30 июня 2018 года 10 крупнейших производителей пшеницы: девяти стран и Европейского союза (на диаграмме обозначен ЕС). Китай занимал 2 место. Определите по диаграмме, какое место по производству пшеницы занимали США.



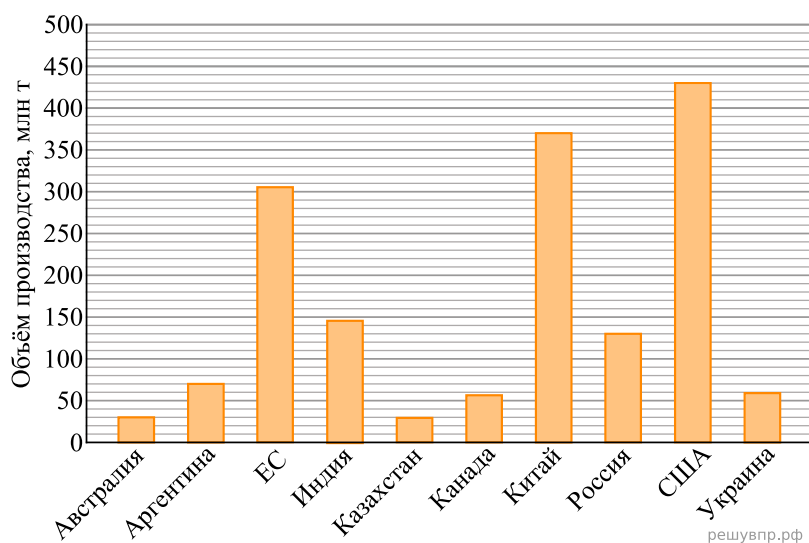
47. На диаграмме показана средняя цена нефти в 2014 году по месяцам (в долларах США за 1 баррель). Определите по диаграмме, сколько месяцев в 2014 году средняя цена нефти была меньше 104 долларов США за баррель.



48. На диаграмме показаны объёмы производства зерна с 1 июля 2017 года по 30 июня 2018 года 10 крупнейших производителей зерна: девяти стран и Европейского союза (на диаграмме обозначен ЕС). Казахстан занимал 10 место. Определите по диаграмме, какое место по производству зерна занимал Китай.



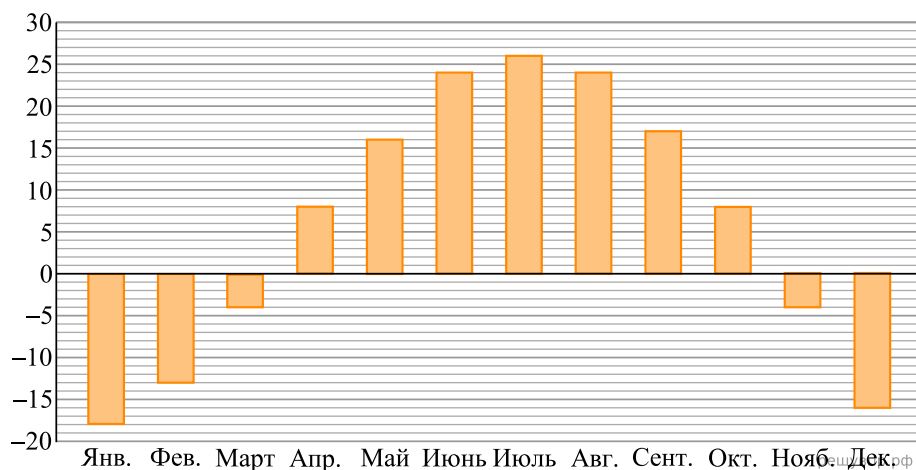
49. На диаграмме показаны объёмы производства зерна с 1 июля 2017 года по 30 июня 2018 года 10 крупнейших производителей зерна: девяти стран и Европейского союза (на диаграмме обозначен ЕС).



Китай занимал 2 место. Определите по диаграмме, какое место по производству зерна занимала Украина.

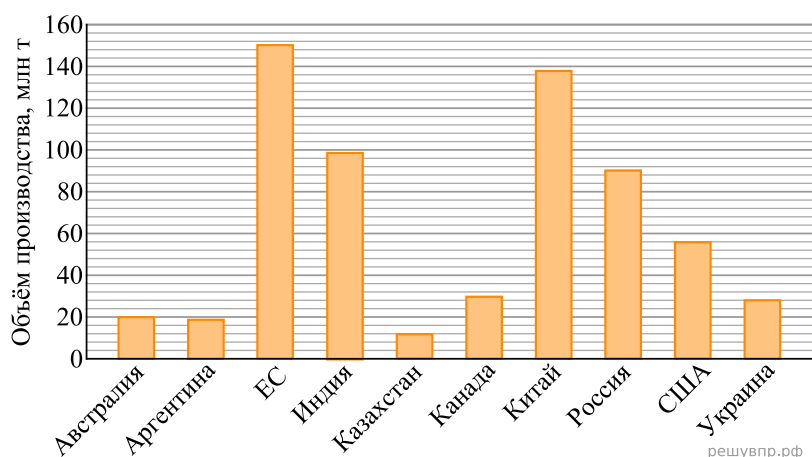


**50.** На диаграмме показана средняя дневная температура в каждом месяце в Хабаровске в течение года. На вертикальной оси указана температура (в градусах Цельсия), на горизонтальной — месяцы.



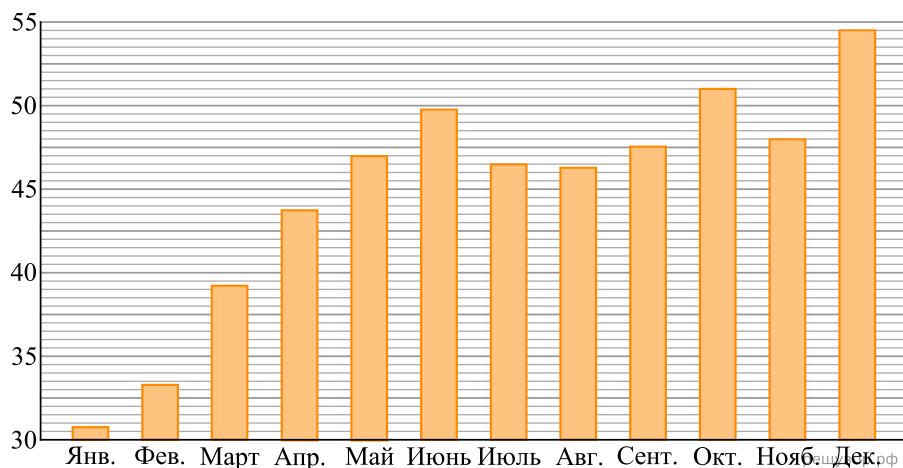
Определите по диаграмме, сколько месяцев в Хабаровске средняя дневная температура была выше  $-9^{\circ}\text{C}$ .

**51.** На диаграмме показаны объёмы производства пшеницы с 1 июля 2017 года по 30 июня 2018 года 10 крупнейших производителей пшеницы: девяти стран и Европейского союза (на диаграмме обозначен ЕС).



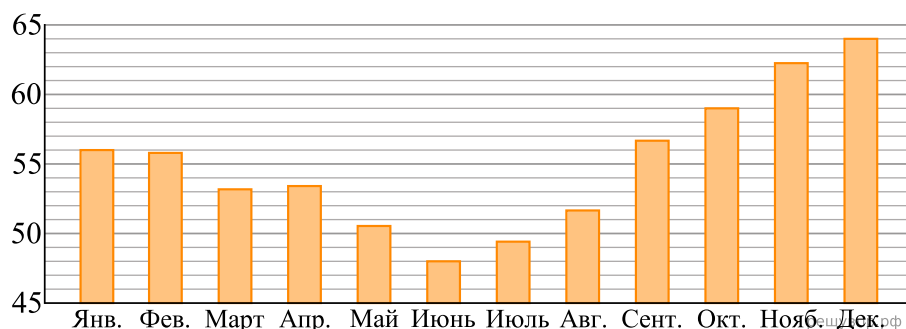
Казахстан занимал 10 место. Определите по диаграмме, какое место по производству пшеницы занимала Россия.

**52.** На диаграмме показана средняя цена нефти в 2016 году по месяцам (в долларах США за 1 баррель).



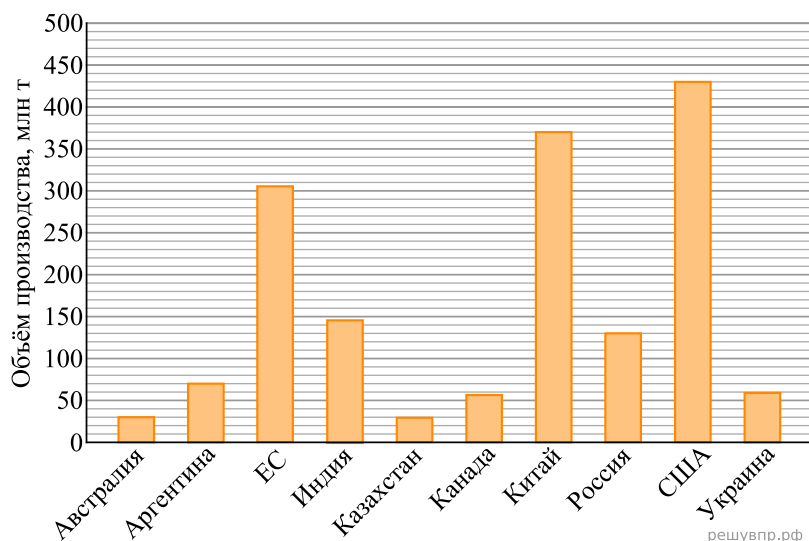
Определите по диаграмме, сколько месяцев в 2016 году средняя цена нефти была больше 41 доллара США за баррель.

**53.** На диаграмме показана средняя цена нефти в 2017 году по месяцам (в долларах США за 1 баррель).



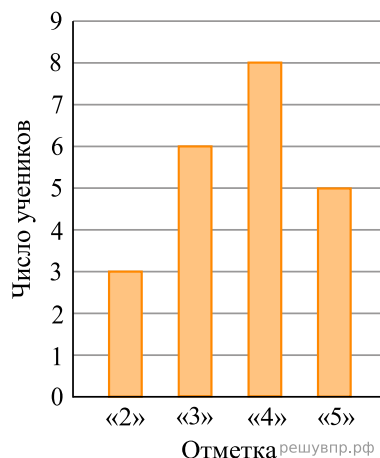
Определите по диаграмме, сколько месяцев в 2017 году средняя цена нефти была меньше 53 долларов США за баррель.

**54.** На диаграмме показаны объёмы производства зерна с 1 июля 2017 года по 30 июня 2018 года 10 крупнейших производителей зерна: девяти стран и Европейского союза (на диаграмме обозначен ЕС).

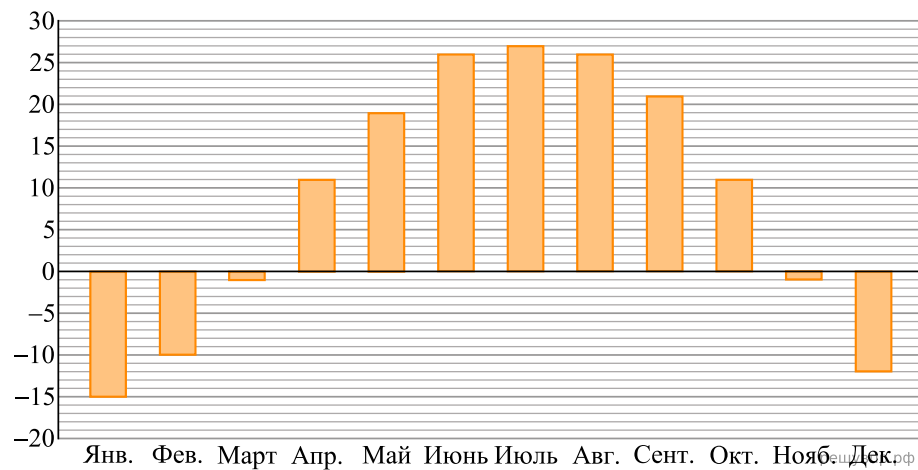


Китай занимал 2 место. Определите по диаграмме, какое место по производству зерна занимала Канада.

**55.** На диаграмме показаны результаты контрольной работы по математике в 6«В» классе. По вертикальной оси указано число учеников. Сколько человек писали эту контрольную работу?



**56.** На диаграмме показана средняя дневная температура в каждом месяце в городе Харбине в течение года. На вертикальной оси указана температура (в градусах Цельсия), на горизонтальной — месяцы.



Определите по диаграмме, сколько месяцев в Харбине средняя дневная температура была выше  $-11^{\circ}\text{C}$ .